

Proyecto MaTeX

Integral Definida

Fco Javier González Ortiz

Directorio

- [Tabla de Contenido](#)
- [Inicio Artículo](#)

© 2004 javier.gonzalez@unican.es
D.L.:SA-1415-2004

ISBN: 84-688-8267-4



MaTeX

INTEGRAL
DEFINIDA



Tabla de Contenido

1. Integral Definida
2. Teorema Fundamental del Cálculo
 - 2.1. Regla de Barrow
3. Aplicación. Cálculo de áreas
 - 3.1. Area del recinto para una función
 - 3.2. Para dos funciones positivas sin corte
 - 3.3. Para dos funciones cualesquiera sin corte
 - 3.4. Para dos funciones que se cortan


Soluciones a los Ejercicios

Soluciones a los Tests



MaTEX

INTEGRAL
DEFINIDA



1. Integral Definida

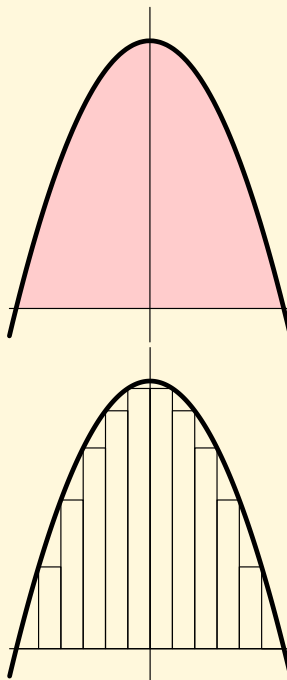
El problema planteado es hallar el área de la región que encierra la curva del gráfico con la recta horizontal.

Una idea sencilla consiste en dividir la región en rectángulos verticales y de esta forma de «llenar» la región con numerosos rectángulos.

De esta manera el área de la región se puede aproximar, cuanto queramos, mediante la suma de las áreas de n rectángulos, tomando todos con la misma base Δx .


Teniendo en cuenta que el área de cada rectángulo se obtiene multiplicando la base por la altura, tenemos que el área de cada rectángulo será la base Δx por su altura respectiva $f(x_i)$.

A la suma de las áreas de los rectángulos se les llama sumas de Riemann.



MaTEX

INTEGRAL
DEFINIDA



A la primera de ellas se le llama suma inferior S_{Inf} :

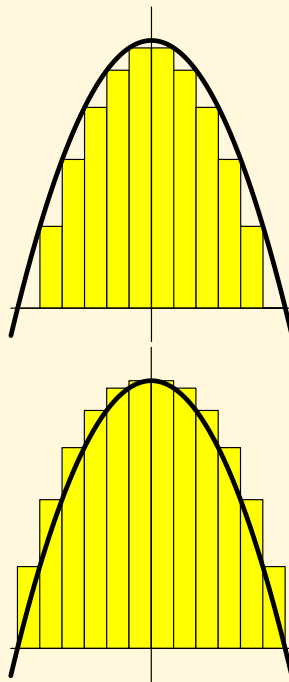
$$\begin{aligned} S_{Inf} &= f(x_1) \Delta x + f(x_2) \Delta x + \cdots + f(x_n) \Delta x \\ &= \sum_{i=1}^n f(x_i) \Delta x \\ \implies S_{Inf} &\leq \text{Área} \end{aligned}$$

A la segunda de ellas se le llama suma superior S_{Sup} :

$$\begin{aligned} S_{Sup} &= f(x_1) \Delta x + f(x_2) \Delta x + \cdots + f(x_n) \Delta x \\ &= \sum_{i=1}^n f(x_i) \Delta x \\ \implies S_{Sup} &\geq \text{Área} \end{aligned}$$


Se tiene así que

$$S_{Inf} \leq \text{Área} \leq S_{Sup}$$



MaTEX

INTEGRAL
DEFINIDA



A medida que aumentamos el número de rectángulos n , ($n \rightarrow \infty$) con $\Delta x \rightarrow 0$, el área buscada se podrá hallar con

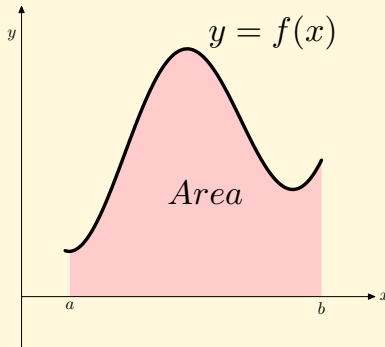
$$\lim_{\substack{\Delta x \rightarrow 0 \\ n \rightarrow \infty}} \sum_{i=1}^n f(x_i) \Delta x \quad (1)$$

El símbolo \sum de sumatorio se convirtió en una “s” estilizada \int , quedando la expresión anterior con la notación

$$\lim_{\substack{\Delta x \rightarrow 0 \\ n \rightarrow \infty}} \sum_{i=1}^n f(x_i) \Delta x = \int_a^b f(x) dx$$


Definimos **Integral Definida** de $f(x)$ entre a y b , al área de la región limitada por la función $f(x)$ entre los puntos a y b y el eje OX . Dicho área lo representaremos con el símbolo

$$\int_a^b f(x) dx$$



MaTEX

INTEGRAL
DEFINIDA



Si bien las áreas que determina las funciones se pueden calcular con el método comentado anteriormente, afortunadamente aquí no realizaremos límites de sumas de áreas de rectángulos como muestra la ecuación (1). Ello se debe a un resultado conocido como teorema fundamental del cálculo

2. Teorema Fundamental del Cálculo

Teorema 2.1. (Teorema Fundamental del Cálculo) Sea $f(x)$ una función continua en el intervalo $I = [a, b]$. Entonces la función

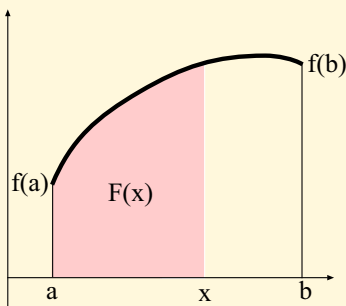
$$F(x) = \int_a^x f(x) dx \text{ es derivable} \quad (2)$$

$$F'(x) = f(x) \quad x \in (a, b)$$

El teorema demuestra que la función integral que da las áreas entre a y x para cada valor de x

$$F(x) = \int_a^x f(x) dx$$

es una función cuya derivada es la función $f(x)$.



MaTeX

INTEGRAL
DEFINIDA



$\int_a^b f(x) dx$ representa un número y $\int_a^x f(x) dx$ representa una función de x .

Es importante recalcar que $\int_a^x f(x) dx$ es una función de x . Como los son

$$\int_a^x f(s) ds = \int_a^x f(t) dt = \int_a^x f(w) dw$$

A $f(s)$, $f(t)$ y $f(w)$ se les llama el integrando y las variables s , t o w son las variables auxiliares de integración.

Realiza el siguiente test para ver si se ha comprendido


Test. Sea la expresión $I = \int_2^3 a s^2 ds$, responder a:

- El significado de I es
 - Integral Definida
 - Integral Indefinida
- El significado de I es
 - Un número
 - una función
- El integrando de I es
 - $a s^2 ds$
 - s^2
 - $a s^2$
- La variable de integración es
 - a
 - ds
 - s



MaTEX

INTEGRAL
DEFINIDA





Test. Sea la expresión $I = \int_2^x (a + t^2) dt$, responder a:

- El significado de I es
 - Integral Definida
 - Integral Indefinida
- El significado de I es
 - Un número
 - una función
- I es función de
 - a
 - x
 - t
- El integrando de I es
 - $(a + t^2) dt$
 - t^2
 - $(a + t^2)$
- La variable de integración es
 - a
 - x
 - t
- La derivada de I es
 - $a + x^2$
 - $a + t^2$
 - $(a + t^2) dt$

Test. La derivada de la función $F(x) = \int (1 + x^2) dx$ es

- $1 + x^2$
- 0

MaTEX

INTEGRAL
DEFINIDA





2.1. Regla de Barrow

Teorema 2.2. (Regla de Barrow) Sea $f(x)$ una función continua en el intervalo $I = [a, b]$ y $G(x)$ una primitiva de $f(x)$ Entonces la integral definida

$$\int_a^b f(x) dx = G(b) - G(a) \quad (3)$$

Observaciones:

1. La importancia de esta regla es fundamental, ya que pone en relación el cálculo de áreas con el cálculo de primitivas.
2. Para hallar la integral definida seguiremos el siguiente proceso:
 - a) Se halla una primitiva cualquiera de la función,
 - b) Se sustituyen en esta primitiva los límites de integración -el superior- y el inferior- y se restan los resultados.

Ejemplo 2.1. Hallar la integral definida $\int_0^\pi \cos x dx$


Solución: Hallamos una primitiva $\int \cos x dx = \text{sen } x$ luego

$$\int_0^\pi \cos x dx = [\text{sen } x]_0^\pi = \text{sen } \pi - \text{sen } 0 = 0$$

□

MaTEX

INTEGRAL DEFINIDA



Ejemplo 2.2. Hallar la integral definida $\int_0^1 x^2 dx$

Solución: Hallamos una primitiva $\int x^2 dx = \frac{1}{3} x^3$ luego

$$\int_0^1 x^2 dx = \left[\frac{1}{3} x^3 \right]_0^1 = \frac{1}{3} (1)^3 - \frac{1}{3} (0)^3 = \frac{1}{3}$$

□

Ejemplo 2.3. Calcular $\int_{-3}^3 |x + 2| dx$

Solución: Como $|x + 2| = \begin{cases} -x - 2 & x \leq -2 \\ x + 2 & -2 < x \end{cases}$


$$\begin{aligned} \int_{-3}^3 |x + 2| dx &= \int_{-3}^{-2} (-x - 2) dx + \int_{-2}^3 (x + 2) dx + \\ &= \left[-\frac{1}{2}x^2 - 2x \right]_{-3}^{-2} + \left[\frac{1}{2}x^2 + 2x \right]_{-2}^3 \\ &= \left[(-2 + 4) - \left(-\frac{9}{2} + 6\right) \right] + \left[\left(\frac{9}{2} + 6\right) - (2 - 4) \right] \\ &= \left[\frac{1}{2} \right] + \left[\frac{25}{2} \right] = 13 \end{aligned}$$

□



MaTEX

INTEGRAL DEFINIDA





Ejercicio 1. Hallar la integral definida $\int_0^1 (1 + x^2) dx$

3. Aplicación. Cálculo de áreas

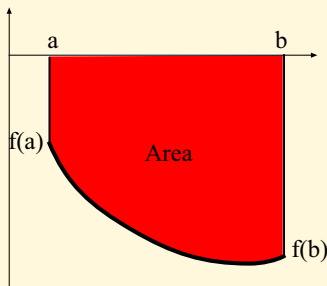
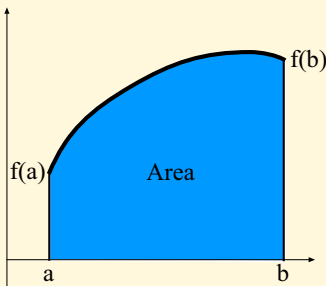
Para determinar el área bajo f distinguimos el signo de $f(x)$

- Si $f(x) > 0 \quad x \in [a, b]$, entonces la integral definida es positiva

$$\text{Area del recinto} = \int_a^b f(x) dx$$

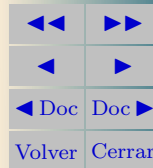
- Si $f(x) < 0 \quad x \in [a, b]$, entonces la integral definida es negativa

$$\text{Area del recinto} = - \int_a^b f(x) dx$$



MaTEX

INTEGRAL
DEFINIDA

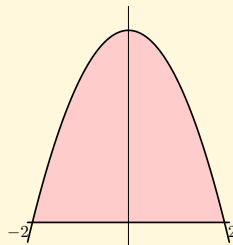




Ejemplo 3.1. Hallar el área limitada por $y = 4 - x^2$ y el eje OX .

Solución: La función $y = 4 - x^2$ corta al eje Ox en ± 2 .

$$\begin{aligned} A &= \int_{-2}^2 (4 - x^2) dx = \left[4x - \frac{1}{3}x^3 \right]_{-2}^2 \\ &= \left[4(2) - \frac{1}{3}2^3 \right] - \left[4(-2) - \frac{1}{3}(-2)^3 \right] \\ &= \boxed{\frac{32}{3}} \end{aligned}$$

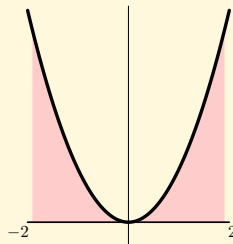


□


Ejemplo 3.2. Hallar el área limitada por $y = x^2$, $x = -2$, $x = 2$ y el eje OX .

Solución: La función $y = x^2$ corta al eje Ox en 0.

$$\begin{aligned} A &= \int_{-2}^2 (x^2) dx = \left[\frac{1}{3}x^3 \right]_{-2}^2 \\ &= \left[\frac{1}{3}2^3 \right] - \left[\frac{1}{3}(-2)^3 \right] \\ &= \boxed{\frac{16}{3}} \end{aligned}$$



□

MaTEXINTEGRAL
DEFINIDA



3.1. Area del recinto para una función

Para determinar el área de un recinto limitado por una función $f(x)$ y el eje OX entre los puntos a y b necesitamos saber si la función cambia de signo, hallando los cortes con el eje OX .

Después, se hallan las integrales definidas por separado en cada intervalo tomando sus valores en valor absoluto.

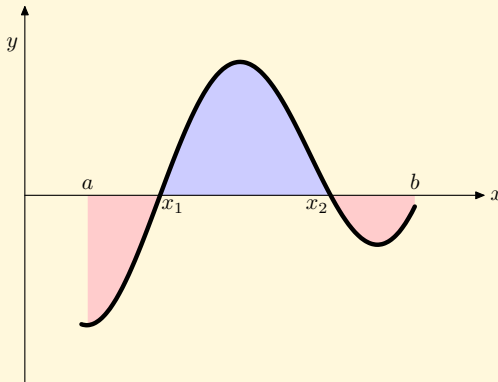
El área pedido será la suma de todas las áreas de cada uno de los recintos.

$$A_1 = \left| \int_a^{x_1} f(x) dx \right|$$

$$A_2 = \int_{x_1}^{x_2} f(x) dx$$

$$A_3 = \left| \int_{x_2}^b f(x) dx \right|$$


$$A = A_1 + A_2 + A_3$$



$$A = \left| \int_a^{x_1} f(x) dx \right| + \int_{x_1}^{x_2} f(x) dx + \left| \int_{x_2}^b f(x) dx \right|$$

MaTEX

INTEGRAL
DEFINIDA



Ejemplo 3.3. Hallar el área delimitada por la gráfica de $\cos x$, el eje Ox en el intervalo $[0, 2\pi]$

Solución:

La función $\cos x$ corta al eje Ox en $\frac{\pi}{2}$ y $\frac{3\pi}{2}$.

Teniendo en cuenta los cambios de signo

$$A = \int_0^{\pi/2} \cos x \, dx + \left| \int_{\pi/2}^{3\pi/2} \cos x \, dx \right| + \int_{3\pi/2}^{2\pi} \cos x \, dx$$

luego

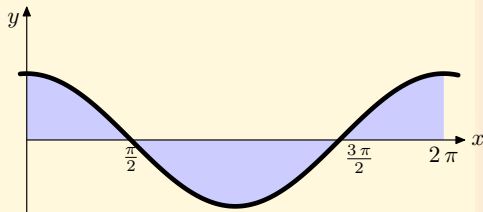
$$A_1 = \left[\operatorname{sen} x \right]_0^{\pi/2} = 1$$

$$A_2 = \left| \left[\operatorname{sen} x \right]_{\pi/2}^{3\pi/2} \right| = 2$$

$$A_3 = \left[\operatorname{sen} x \right]_{3\pi/2}^{2\pi} = 1$$

Luego

$$\boxed{\text{Area} = 4}$$




□



MaTeX

INTEGRAL
DEFINIDA





3.2. Para dos funciones positivas sin corte

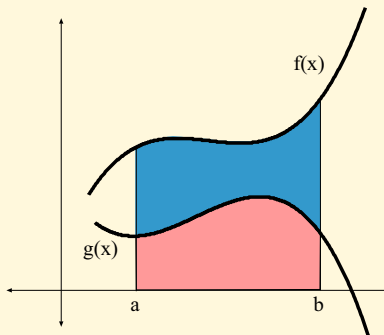
Para determinar el área de un recinto limitado por dos funciones $f(x)$ y $g(x)$ positivas sin corte entre los puntos a y b , como en la figura, teniendo en cuenta que

$$\int_a^b f(x) dx = \text{azul} + \text{rosa} \quad \int_a^b g(x) dx = \text{rosa}$$

el área del recinto comprendido entre ambas funciones se obtiene restando ambas integrales,

$$\int_a^b f(x) dx - \int_a^b g(x) dx$$


resultando la sencilla expresión



$$A = \int_a^b (f(x) - g(x)) dx$$

(4)

MaTeX

INTEGRAL
DEFINIDA

Ejemplo 3.4. Hallar el área limitada por las gráficas de las funciones $f(x) = x^2$ y $g(x) = \sqrt{x}$.

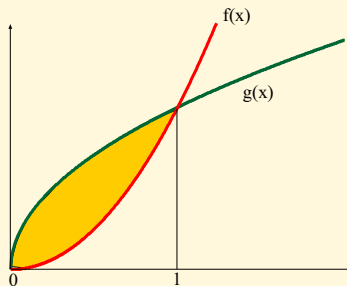
Solución: Hallamos la intersección de ambas

$$\left. \begin{array}{l} f(x) = x^2 \\ g(x) = \sqrt{x} \end{array} \right\} \implies x^2 = \sqrt{x} \implies x = 0, 1$$

$$A = \int_0^1 (g(x) - f(x)) dx$$

$$\begin{aligned} A &= \int_0^1 (\sqrt{x} - x^2) dx \\ &= \left[\frac{2}{3} x^{3/2} - \frac{1}{3} x^3 \right]_0^1 \end{aligned}$$

$$\boxed{\text{Area} = \frac{1}{3}}$$




□



MaTEX

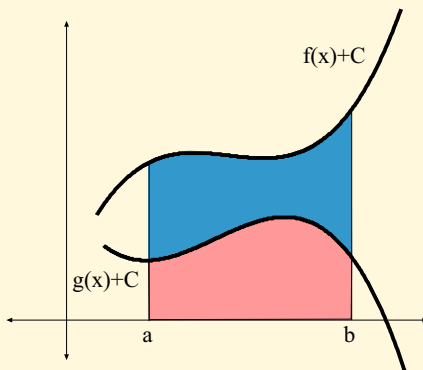
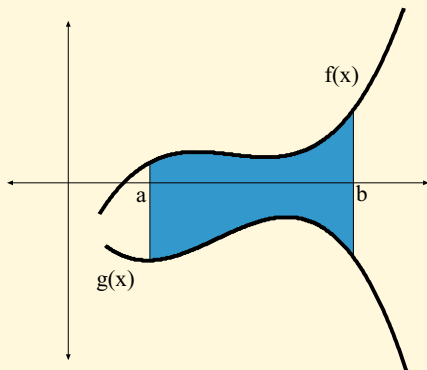
INTEGRAL
DEFINIDA



3.3. Para dos funciones cualesquiera sin corte

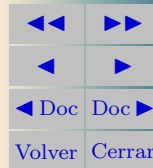
Para determinar el área de un recinto limitado por dos funciones $f(x)$ y $g(x)$ entre los puntos a y b pudiendo ser alguna o ambas negativas se aplica la misma expresión que para dos funciones **positivas**, ya que bastaría desplazar las funciones $f(x) + C$ y $g(x) + C$ como se muestra en el gráfico de la derecha

$$A = \int_a^b (f(x) + C - (g(x) + C)) dx = \int_a^b (f(x) - g(x)) dx$$



MaTEX

INTEGRAL
DEFINIDA





3.4. Para dos funciones que se cortan

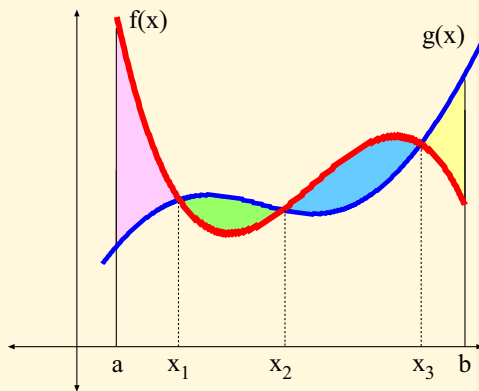
Para determinar el área de un recinto limitado por dos funciones $f(x)$ y $g(x)$ entre los puntos a y b necesitamos saber los puntos de corte entre ellas. Se hallan las integrales definidas por separado en valor absoluto y se suman todas las áreas.

$$A_1 = \left| \int_a^{x_1} (f(x) - g(x)) dx \right|$$

$$A_2 = \left| \int_{x_1}^{x_2} (f(x) - g(x)) dx \right|$$

$$A_3 = \left| \int_{x_2}^{x_3} (f(x) - g(x)) dx \right|$$


$$A_4 = \left| \int_{x_3}^b (f(x) - g(x)) dx \right|$$



$$A = A_1 + A_2 + A_2 + A_4$$

MaTeX

INTEGRAL
DEFINIDA



Ejercicio 2. Hallar el área delimitada por la curva $y = x^3 - 6x^2 + 8x$ y el eje OX .

Ejercicio 3. Hallar el área del recinto limitado por las gráficas de las funciones $y = x^2 + x$ e $y = x + 2$.

Ejercicio 4. Hallar el área del recinto limitado por las gráficas de las funciones e $f(x) = x^4 - 2x^2 + 1$ y $g(x) = -x^2 + 1$.

Ejercicio 5. Hallar el área delimitada por la curva $y = \frac{1}{4 - x^2}$ y las rectas $x = -1$, $x = 1$, y $y = 1/2$.

Ejercicio 6. Dada la curva $y = x^2 + 2x + 2$, halla el área limitada por la curva, la recta tangente en el punto donde la función tiene un extremo y recta la tangente a la curva de pendiente 6.

Ejercicio 7. Calcula el área de la región comprendida entre las funciones $y = 2 - x^2$ e $y = |x|$.

Ejercicio 8. Hallar el área limitada por $y = -x^2 + 4x + 5$ con al recta $y = 5$.

Ejercicio 9. Hallar el área limitada por $y = x^2 - 2x$ con al recta $y = x$.


Ejercicio 10. La curva $y = a[1 - (x - 2)^2]$, con $a > 0$, limita con el eje de abscisas un recinto de 12 unidades de superficie. Calcula el valor de a .

Ejercicio 11. Dada la función $f(x) = a e^{x/3} + \frac{1}{x^2}$, con $x \neq 0$,



MaTEX

INTEGRAL
DEFINIDA



a) Calcular $\int_1^2 f(x) dx$ en función de a


b) Si $F(x)$ es una primitiva de $f(x)$ hallar a sabiendo que $F(1) = 0$ y $F(2) = \frac{1}{2}$

Ejercicio 12. De todas las primitivas de la función $f(x) = 1 + x|x|$, determina aquella cuya gráfica pasa por el punto $(0, 1)$.



MaTEX

INTEGRAL
DEFINIDA



Soluciones a los Ejercicios

Ejercicio 1. Hallamos una primitiva

$$\int (1 + x^2) dx = x + \frac{1}{3} x^3$$

luego


$$\int_0^1 (1 + x^2) dx = \left[x + \frac{1}{3} x^3 \right]_0^1 = \left(1 + \frac{1}{3} (1)^3 \right) - \left(0 + \frac{1}{3} (0)^3 \right) = \frac{4}{3}$$

Ejercicio 1



MaTEX

INTEGRAL
DEFINIDA



Ejercicio 2. Sea $y = x^3 - 6x^2 + 8x$, hallamos los puntos de corte con el eje OX

$$y = x(x^2 - 6x + 8) = 0 \implies x = 0, 2, 4$$

una primitiva,

$$F(x) = \int (x^3 - 6x^2 + 8x) dx = \frac{1}{4}x^4 - 2x^3 + 4x^2$$

$$\left| \int_0^2 f(x) dx \right| = \left[\frac{1}{4}x^4 - 2x^3 + 4x^2 \right]_0^2 = |4|$$


$$\begin{aligned} \left| \int_2^4 f(x) dx \right| &= \left[\frac{1}{4}x^4 - 2x^3 + 4x^2 \right]_2^4 = |-4| \\ &= \text{Area del recinto} = 8 \end{aligned}$$

Ejercicio 2



MaTEX

INTEGRAL
DEFINIDA



Ejercicio 3. Sean $y = x^2 + x$ e $y = x + 2$, hallamos los puntos de corte entre ambas

$$\left. \begin{array}{l} y = x^2 + x \\ y = x + 2 \end{array} \right\} \implies x^2 + x = x + 2 \implies x = \pm\sqrt{2}$$

una primitiva de $f - g$,

$$F(x) = \int [(x^2 + x) - (x + 2)] dx = \int (x^2 - 2) dx = \frac{1}{3}x^3 - 2x$$

$$\begin{aligned} \left| \int_{-\sqrt{2}}^{\sqrt{2}} f(x) - g(x) dx \right| &= \left[\frac{1}{3}x^3 - 2x \right]_{-\sqrt{2}}^{\sqrt{2}} = \left| -\frac{4}{3}\sqrt{2} \right| \\ &= \text{Area del recinto} = \frac{4}{3}\sqrt{2} \end{aligned}$$

Ejercicio 3



MaTEX

INTEGRAL
DEFINIDA



Ejercicio 4. Sean $y = -x^2 + 1$ e $y = x^4 - 2x^2 + 1$, hallamos los puntos de corte entre ambas

$$\left. \begin{array}{l} y = -x^2 + 1 \\ y = x^4 - 2x^2 + 1 \end{array} \right\} \implies -x^2 + 1 = x^4 - 2x^2 + 1 \implies x = 0, \pm 1$$

una primitiva de $f(x) - g(x) = x^4 - 2x^2 + 1 - (-x^2 + 1) = x^4 - x^2$,

$$F(x) = \int (x^4 - x^2) dx = \frac{1}{5}x^5 - \frac{1}{3}x^3$$

$$\left| \int_{-1}^0 f(x) - g(x) dx \right| = \left[\frac{1}{5}x^5 - \frac{1}{3}x^3 \right]_{-1}^0 = \left| -\frac{2}{15} \right|$$

$$\left| \int_0^1 f(x) - g(x) dx \right| = \left[\frac{1}{5}x^5 - \frac{1}{3}x^3 \right]_0^1 = \left| -\frac{2}{15} \right|$$

$$= \text{Area del recinto} = \frac{4}{15}$$

Ejercicio 4



MaTEX

INTEGRAL
DEFINIDA

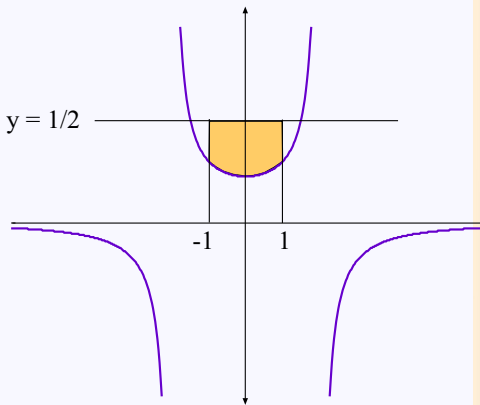


Ejercicio 5. Sean $f(x) = 1/2$ e $g(x) = \frac{1}{4-x^2}$,


$$f(x) - g(x) = \frac{1}{2} - \frac{1}{4-x^2}$$

$$F(x) = \int \left(\frac{1}{2} - \frac{1}{4-x^2} \right) dx = \frac{1}{2}x - \frac{1}{4} \ln \frac{2-x}{2+x}$$

$$\begin{aligned} \text{Área} &= \left[\frac{1}{2}x - \frac{1}{4} \ln \frac{2-x}{2+x} \right]_{-1}^1 \\ &= \left| 1 + \frac{1}{2} \ln 3 \right| \end{aligned}$$



Ejercicio 5

MaTEXINTEGRAL
DEFINIDA



Ejercicio 6. Sea $y = x^2 + 2x + 2$

- Recta tangente en el punto donde la función tiene un extremo. Como $y' = 2x + 2$, $y' = 0 \implies x = -1$, el punto $(-1, 1)$ es un mínimo. La ecuación de su tangente es

$$y_1 = 1$$

- Recta la tangente a la curva de pendiente 6. Como $y' = 2x + 2$, $y' = 6 \implies 2x + 2 = 6 \implies x = 2$, el punto es $(2, 10)$ y la tangente es

$$y_2 - 10 = 6(x - 2) \implies y_2 = 6x - 2$$

Las tangentes se cortan en

$$\left. \begin{array}{l} y_1 = 1 \\ y_2 = 6x - 2 \end{array} \right\} \implies 6x - 2 = 1 \implies x = \frac{1}{2}$$


Area bajo la parábola:

$$\int_{-1}^2 (x^2 + 2x + 2) dx = \left[\frac{1}{3}x^3 + x^2 + 2x \right]_{-1}^2 = 12$$

Area pedida es el recinto azul, igual al área bajo la parábola menos el rectángulo marrón y el trapecio rosa.

MaTeX

INTEGRAL
DEFINIDA



Area del rectángulo marrón

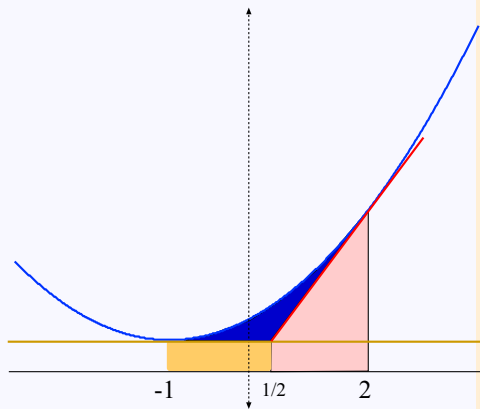
$$\int_{-1}^{1/2} 1 \, dx = \frac{3}{2}$$

Area del trapecio rosa

$$\int_{1/2}^2 (6x - 2) \, dx = \frac{33}{4}$$

Recinto azul

$$12 - \left(\frac{3}{2} + \frac{33}{4}\right) = \boxed{\frac{9}{4}}$$




Ejercicio 6



MaTEX

INTEGRAL
DEFINIDA



Ejercicio 7. Sean $y = 2 - x^2$ e $y = |x|$, hallamos los puntos de corte entre ambas

$$\left. \begin{array}{l} y = 2 - x^2 \\ y = |x| \end{array} \right\} \Rightarrow \begin{array}{l} (x < 0) \quad -x = 2 - x^2 \Rightarrow x = \boxed{-1}, 2 \\ (x > 0) \quad x = 2 - x^2 \Rightarrow x = \boxed{1}, -2 \end{array} \right\}$$

Area pedida

$$\begin{aligned} \left| \int_{-1}^1 f(x) - g(x) dx \right| &= \left| \int_{-1}^1 (2 - x^2 - |x|) dx \right| \\ &= \left| \int_{-1}^0 (2 - x^2 + x) dx \right| + \left| \int_0^1 (2 - x^2 - x) dx \right| \\ &= \frac{13}{6} + \frac{13}{6} \\ &= \frac{13}{3} \end{aligned}$$

Ejercicio 7



MaTEX

INTEGRAL
DEFINIDA

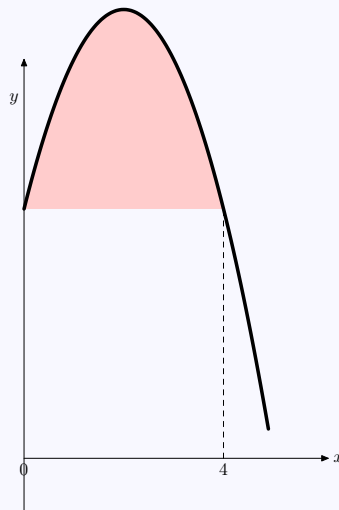


**Ejercicio 8.**

Hallamos los puntos de corte:


$$-x^2 + 4x + 5 = 5 \implies x = 0 \quad x = 4$$

$$\begin{aligned} \text{Area} &= \int_0^4 (-x^2 + 4x + 5 - 5) dx \\ &= \int_0^4 (-x^2 + 4x) dx \\ &= \left(-\frac{x^3}{3} + 2x^2 \right)_0^4 \\ &= \left(-\frac{64}{3} + 32 \right) - 0 \\ &= \frac{64}{3} \end{aligned}$$



Ejercicio 8

MaTeX

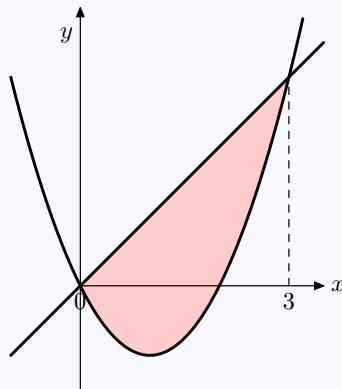
INTEGRAL
DEFINIDA

Ejercicio 9.

Hallamos los puntos de corte:

$$x^2 - 2x = x \implies x = 0 \quad x = 3$$

$$\begin{aligned} \text{Area} &= \int_0^3 (x - x^2 + 2x) dx \\ &= \int_0^3 (3x - x^2) dx \\ &= \left(\frac{3x^2}{2} - \frac{1}{3}x^3 \right)_0^3 \\ &= \left(\frac{27}{2} - 9 \right) - 0 \\ &= \frac{27}{6} \end{aligned}$$



Ejercicio 9



MaTeX

INTEGRAL
DEFINIDA

**Ejercicio 10.**

Hallamos los puntos de corte con el eje de abscisas:

$$a[1 - (x - 2)^2] = 0 \implies 1 = (x - 2)^2 \implies x = 1 \quad x = 3$$

Igualamos el área a 12

$$a \int_1^3 (1 - (x - 2)^2) dx = a \left(x - \frac{(x - 2)^3}{3} \right)_1^3$$

$$12 = a \left(3 - \frac{1}{3} \right) - a \left(1 + \frac{1}{3} \right)$$

$$12 = a \cdot \frac{4}{3}$$

$$\boxed{a = 9}$$

Ejercicio 10

MaTeX

INTEGRAL
DEFINIDA



**Ejercicio 11.**

Siedno $f(x) = a e^{x/3} + \frac{1}{x^2}$, con $x \neq 0$,

a)

$$\begin{aligned} \int_1^2 \left(a e^{x/3} + \frac{1}{x^2} \right) dx &= \int_1^2 a e^{x/3} dx + \int_1^2 \frac{1}{x^2} dx \\ &= \left(3 a e^{x/3} \right)_1^2 - \left(\frac{1}{x} \right)_1^2 \\ &= 3 a (e^{2/3} - e^{1/3}) + \frac{1}{2} \end{aligned}$$

b) Una primitiva es $F(x) = 3 a e^{x/3} - \frac{1}{x} + k$. Hallar a y k con las condiciones

$$F(1) = 0 \text{ y } F(2) = \frac{1}{2}$$

$$\left. \begin{aligned} 3 a e^{1/3} - \frac{1}{1} + k &= 0 \\ 3 a e^{2/3} - \frac{1}{2} + k &= \frac{1}{2} \end{aligned} \right\} \begin{aligned} 3 a e^{1/3} + k &= 1 \\ 3 a e^{2/3} + k &= 1 \end{aligned}$$


$$\boxed{a = 0}$$

$$\boxed{k = 1}$$

Ejercicio 11

MaTEX

INTEGRAL
DEFINIDA





Ejercicio 12. Sea $f(x) = 1 + x|x|$, Como

$$f(x) = 1 + x|x| = \begin{cases} 1 - x^2 & x \leq 0 \\ 1 + x^2 & 0 < x \end{cases}$$

las primitivas de $f(x)$ son

$$F(x) = \int f(x) dx = \begin{cases} x - \frac{1}{3}x^3 + C_1 & x < 0 \\ x + \frac{1}{3}x^3 + C_2 & 0 < x \end{cases}$$

para que pase por el punto $(0, 1)$, exigimos que

$$F(0^-) = F(0^+) = 1$$

luego

$$\boxed{C_1 = C_2 = 1}$$

Ejercicio 12

MaTeX

INTEGRAL
DEFINIDA



Soluciones a los Tests

Solución al Test: En efecto


$$F'(x) = \frac{d}{dx} \int (1 + x^2) dx = (1 + x^2)$$

Final del Test



MaTEX

INTEGRAL
DEFINIDA



Índice alfabético

Área, 11

de una función, 13

entre dos funciones, 15, 17, 18

integral definida, 3

notación, 5

teorema

fundamental del cálculo, 6

regla de Barrow, 9



MaTeX

INTEGRAL
DEFINIDA

