

# Proyecto MaTeX

## Límites-Continuidad

Fco Javier González Ortiz

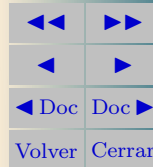
### Directorio

- [Tabla de Contenido](#)
- [Inicio Artículo](#)



MaTeX

LÍMITES Y  
CONTINUIDAD




# Tabla de Contenido

1. Introducción
2. ¿Qué es un límite?
  - 2.1. Cálculo de límites usando tablas
  - 2.2. Algebra de los límites
3. Límites laterales
4. Límites Infinitos
5. Límites en el Infinito
6. Límites Indeterminados
7. Cálculo de límites Indeterminados
  - 7.1. Calculo de límites  $\frac{0}{0}$ 
    - Por factorización • Por el conjugado
  - 7.2. Calculo de límites  $\frac{\infty}{\infty}$ 
    - Por división de la mayor potencia
  - 7.3. Calculo de límites  $\infty - \infty$ 
    - Se hacen operaciones • Por el conjugado
  - 7.4. Calculo de límites  $a^{\pm\infty}$
  - 7.5. Calculo de límites  $f(x)^{g(x)}$
8. El número  $e$ 
  - 8.1. Calculo de límites  $1^{\pm\infty}$



MaTeX

LÍMITES Y  
CONTINUIDAD





**9. Continuidad**

**9.1. ¿Qué es una función continua?**

**9.2. Definición de continuidad**

**10. Discontinuidad**

**10.1. Discontinuidad Evitable**

**10.2. Discontinuidad de salto finito**

**10.3. Discontinuidad de salto infinito**

**11. Asíntotas**

**11.1. Asíntota Vertical**

**11.2. Asíntota Horizontal**

**11.3. Asíntota Oblicua**


**12. Cuestionarios**

**Soluciones a los Ejercicios**

**Soluciones a los Tests**

MaTeX

LÍMITES Y CONTINUIDAD



## 1. Introducción

El concepto de límite es el fundamento del cálculo. En el siglo XIX, eminentes matemáticos, Augustin-Louis Cauchy<sup>1</sup> y Karl Weierstrass<sup>2</sup> entre otros trataron de precisar el concepto de límite. Ellos lograron dar una definición rigurosa de límite, la definición  $\epsilon - \delta$ , que aunque la incluimos en este capítulo no es fundamental en un primer acercamiento intuitivo a dicho concepto.

El nivel de este capítulo es adecuado para alumnos de 4º de ESO y 1º de Bachillerato.

Se incluye en este capítulo también el estudio del concepto de continuidad de una función que está basado en el concepto de límite.

Se incide en la aplicación de los límites para la representación de funciones, sobre todo las racionales en el cálculo de las asíntotas, horizontales, verticales y oblicuas.

---


<sup>1</sup>Eminente matemático francés (1789-1857) que escribió mas de 700 artículos, y fue pintor, abogado y escalador.

<sup>2</sup>Eminente matemático alemán (1815-1897) que precisó la definición de continuidad.



MaTeX

LÍMITES Y  
CONTINUIDAD





## 2. ¿Qué es un límite?

Para una función matemática  $y = f(x)$ , en un punto  $x = a$ , la expresión «límite de  $f(x)$  cuando  $x$  es tan próximo a  $a$  como queramos» ( $x \rightarrow a$ ), es el valor al que se aproxima la función cuando el valor de  $x$  se acerca a  $a$  tanto como se quiera, simbólicamente lo escribimos de la forma

$$\lim_{x \rightarrow a} f(x) = L$$

- Así decimos que  $\lim_{x \rightarrow 1} x^2 = 1$  pues cuando  $x \rightarrow 1$ ,  $x^2 \rightarrow 1$ ,
- o también decimos que  $\lim_{x \rightarrow 2} x^2 = 4$  pues cuando  $x \rightarrow 2$ ,  $x^2 \rightarrow 4$ ,
- o bien decimos que  $\lim_{x \rightarrow 5} x^3 = 125$  pues cuando  $x \rightarrow 5$ ,  $x^3 \rightarrow 125$ .

Hay una definición formal de límite pero por su dificultad se puede prescindir de ella y trabajar de una forma intuitiva.

A continuación usaremos una técnica simple e intuitiva de calcular el límite diseñando una tabla de valores para la función. Vamos a verlo.

MaTeX

LÍMITES Y  
CONTINUIDAD





## 2.1. Cálculo de límites usando tablas

**Ejemplo 2.1.** Determinar  $\lim_{x \rightarrow 1} \frac{x^2 - 1}{x - 1}$  con una tabla de valores.

*Solución:* Con la ayuda de la calculadora o de un computador damos valores de  $x$  próximos a 1 por su izquierda y por su derecha.


$x \rightarrow 1^-$	$\frac{x^2 - 1}{x - 1}$		$1^+ \leftarrow x$
0.9	1,9	2,1	1.1
0.99	1,99	2,01	1.01
0.9999	1,9999	2,0001	1.0001
↓	↓	↓	↓
$1^-$	2	2	$1^+$

Esto parece indicar que cuando  $x \rightarrow 1$  la función  $\frac{x^2 - 1}{x - 1} \rightarrow 2$ .

► **ATENCIÓN** Notar que  $x$  puede acercarse a 1 tanto como se quiera pero no puede ser 1 pues nos encontraríamos con la expresión  $f(1) = \frac{0}{0}$  que no esta definida. □

MaTeX

LÍMITES Y  
CONTINUIDAD





**Ejemplo 2.2.** Hallar con una tabla  $\lim_{x \rightarrow 0} \text{sen } x$ .

*Solución:* Como antes, damos valores a  $x$  próximos a 0 por su izquierda y por su derecha.

$x \rightarrow 0^-$	$\text{sen } x$		$0^+ \leftarrow x$
-0.1	-0.0998	0.0998	0.1
-0.01	-0.00999	0.00999	0.01
-0.001	-0.00099998	0.00099998	0.001
↓	↓	↓	↓
$0^-$	0	0	$0^+$

Se observa que para valores cada vez más próximos a 0, el valor de la función se aproxima más y más a su límite, que en este caso es 0, es decir

$$\lim_{x \rightarrow 0} \text{sen } x = 0$$

□

► **ATENCIÓN** El uso de tablas permite intuir al alumno la idea de aproximación de una manera mecánica, si bien para calcular límites no se utilizan. En su lugar usaremos reglas y técnicas que se exponen a continuación.

MaTeX

LÍMITES Y CONTINUIDAD





## 2.2. Álgebra de los límites

A continuación se recogen las primeras reglas de paso al límite. Aunque tienen una estructura intuitiva sencilla, se demuestran con la definición rigurosa de límite, pero esta demostración está fuera del nivel de este curso.


### Reglas del calculo de limites

Regla de la suma	$\lim_{x \rightarrow a} [f(x) + g(x)] = \lim_{x \rightarrow a} f(x) + \lim_{x \rightarrow a} g(x)$
Regla del producto	$\lim_{x \rightarrow a} f(x) \cdot g(x) = \lim_{x \rightarrow a} f(x) \cdot \lim_{x \rightarrow a} g(x)$
Regla del cociente	$\lim_{x \rightarrow a} \frac{f(x)}{g(x)} = \frac{\lim_{x \rightarrow a} f(x)}{\lim_{x \rightarrow a} g(x)}$
Regla de la potencia	$\lim_{x \rightarrow a} f(x)^{g(x)} = [\lim_{x \rightarrow a} f(x)]^{\lim_{x \rightarrow a} g(x)}$

A continuación se aplican estas reglas.

MaTeX

LÍMITES Y  
CONTINUIDAD







**Ejemplo 2.3.** Veamos algunos casos de como aplicar estas reglas:

$\lim_{x \rightarrow 0} (x + 1)$	$= \lim_{x \rightarrow 0} x + \lim_{x \rightarrow 0} 1$	$= 0 + 1$	1
$\lim_{x \rightarrow 1} (3x + x^2)$	$= \lim_{x \rightarrow 1} 3 \lim_{x \rightarrow 1} x + \lim_{x \rightarrow 1} x^2$	$= 3 \cdot 1 + 1$	4
$\lim_{x \rightarrow 0} (\sin x + \cos x)$	$= \lim_{x \rightarrow 0} \sin x + \lim_{x \rightarrow 0} \cos x$	$= 0 + 1$	1
$\lim_{x \rightarrow 1} (x^2 - 3x)$	$= \lim_{x \rightarrow 1} x^2 - \lim_{x \rightarrow 1} 3x$	$= 1 - 3$	-2
$\lim_{x \rightarrow 4} (x^2 \sqrt{x})$	$= \lim_{x \rightarrow 4} x^2 \cdot \lim_{x \rightarrow 4} \sqrt{x}$	$= 16 \cdot 2$	32
$\lim_{x \rightarrow 1} \frac{x^2 + 1}{3x}$	$= \frac{\lim_{x \rightarrow 1} x^2 + 1}{\lim_{x \rightarrow 1} 3x}$	$= \frac{1 + 1}{3}$	$\frac{2}{3}$
$\lim_{x \rightarrow 2} (3)^{x+1}$	$= [\lim_{x \rightarrow 2} 3]^{\lim_{x \rightarrow 2} x + 1}$	$= 3^3$	27
$\lim_{x \rightarrow 2} (x + 3)^{5x}$	$= [\lim_{x \rightarrow 2} x + 3]^{\lim_{x \rightarrow 2} 5x}$	$= (2 + 3)^{10}$	$5^{10}$

MaTeX

LÍMITES Y  
CONTINUIDAD





### 3. Límites laterales

Hasta ahora, con las tablas hemos determinado el  $\lim_{x \rightarrow a} f(x)$  realizando los cálculos por ambos lados de  $a$ , por la izquierda cuando  $x \rightarrow a^-$  y por la derecha cuando  $x \rightarrow a^+$ .

A partir de ahora escribiremos ambos límites laterales por la izquierda y derecha, abreviadamente como  $f(a^-)$  y  $f(a^+)$ . Es decir

$$f(a^-) = \lim_{x \rightarrow a^-} f(x)$$

$$f(a^+) = \lim_{x \rightarrow a^+} f(x)$$

Como veremos en los ejemplos siguientes no siempre los límites laterales coinciden. En este caso diremos que el límite


$$f(a^-) \neq f(a^+) \implies \lim_{x \rightarrow a} f(x) \text{ no existe}$$

ya que los límites laterales son distintos.

También vamos a ver la interpretación geométrica de las funciones que en la proximidad de un punto presentan un comportamiento distinto, según nos aproximemos al valor de  $a$  por la izquierda o por la derecha .

MaTeX

LÍMITES Y CONTINUIDAD





**Ejemplo 3.1.** Realizar una tabla para hallar  $\lim_{x \rightarrow 0} \frac{|x|}{x}$ .

*Solución:* Recordemos que

$$|x| = \begin{cases} -x & x \leq 0 \\ x & 0 \leq x \end{cases}$$

$x \rightarrow 0^-$	$\frac{ x }{x}$	$0^+ \leftarrow x$
-0.5	-1   1	0.5
-0.1	-1   1	0.1
-0.001	-1   1	0.001

Esto indica que


$$\lim_{x \rightarrow 0^-} \frac{|x|}{x} = -1 \text{ y } \lim_{x \rightarrow 0^+} \frac{|x|}{x} = 1$$

Cuando los límites laterales de una función en un punto son distintos decimos que el límite no existe. Así, en este caso tenemos que

$$f(0^-) = -1 \neq f(0^+) = 1 \implies \nexists \lim_{x \rightarrow 0} f(x)$$

□

MaTeX

LÍMITES Y  
CONTINUIDAD

**Ejemplo 3.2.** Veamos otro ejemplo de una función que tiene límites laterales distintos en un punto. Sea la función definida a trozos

*Solución:*

$$y = f(x) = \begin{cases} -x + 2 & x \leq 1 \\ x + 1 & 1 < x \end{cases}$$

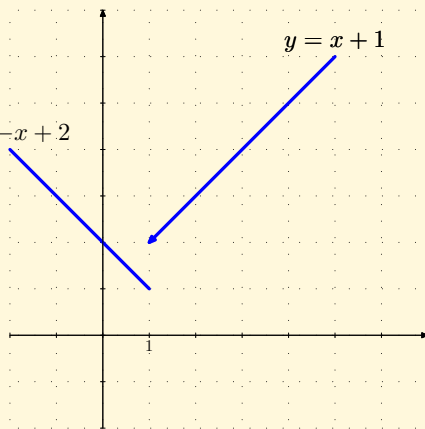
$$f(1^-) = \lim_{x \rightarrow 1^-} (-x + 2) = 1 \quad y = -x + 2$$

$$f(1^+) = \lim_{x \rightarrow 1^+} (x + 1) = 2$$

$$f(1^-) \neq f(1^+)$$

luego

$$\nexists \lim_{x \rightarrow 1} (-x + 2)$$



□

Decimos que el límite existe cuando ambos límites laterales son finitos e iguales,

$$\lim_{x \rightarrow a} f(x) = L \iff f(a^-) = f(a^+) = L$$



MaTeX

LÍMITES Y  
CONTINUIDAD





## 4. Límites Infinitos

Se presenta el caso que cuando  $x \rightarrow a$  la función toma valores grandes y más grandes a medida que nos aproximamos a  $\mathbf{a}$ , en este caso decimos que la función  $f(x)$  diverge a  $\infty$  en el punto  $x = \mathbf{a}$ . Veamos un ejemplo

**Ejemplo 4.1.** Hallar con una tabla  $\lim_{x \rightarrow 0} \frac{1}{x^2}$

*Solución:* Tomamos valores próximos a 0

$x \rightarrow 0^-$	$\frac{1}{x^2}$		$0^+ \leftarrow x$
-0.1	100	100	0.1
-0.01	$10^4$	$10^4$	0.01
-0.0001	$10^{16}$	$10^{16}$	0.0001
↓	↓	↓	↓
$0^-$	$\infty$	$\infty$	$0^+$

A medida que  $x \rightarrow 0^-$ , o bien  $x \rightarrow 0^+$ , la función  $f(x)$  se hace tan grande como se quiera, y decimos en este caso que la función

$f(x)$  diverge a  $\infty$

$$\lim_{x \rightarrow 0} \frac{1}{x^2} = \frac{1}{0} = \infty$$

□

Veamos otro ejemplo:

MaTeX

LÍMITES Y CONTINUIDAD



**Ejemplo 4.2.** Hallar con una tabla  $\lim_{x \rightarrow 2} \frac{1}{x-2}$

*Solución:* Damos valores próximos a 2

$x \rightarrow 2^-$	$\frac{1}{x-2}$		$2^+ \leftarrow x$
1.9	-10	10	2.1
1.99	-100	100	2.01
1.9999	$-10^4$	$10^4$	2.0001

$$\lim_{x \rightarrow 2^-} \frac{1}{x-2} = -\infty$$

$$\lim_{x \rightarrow 2^+} \frac{1}{x-2} = +\infty$$

□

El efecto gráfico de un límite infinito en un punto se indica con la presencia de las asíntotas verticales. Más adelante, en el apartado de las asíntotas, se explica la representación gráfica de los límites infinitos.

**EJERCICIO 1.** Indicar en que puntos las funciones divergen a infinito:

a)  $f(x) = \frac{2}{3x}$


b)  $g(x) = \frac{2}{x^2 - 1}$

c)  $h(x) = \frac{x}{1+x}$



MaTeX

LÍMITES Y CONTINUIDAD





## 5. Límites en el Infinito

Si queremos estudiar el comportamiento de una función  $f(x)$  cuando los valores de  $x$  se hacen tan grandes como queramos lo expresamos, diciendo que  $x$  tiende a infinito  $x \rightarrow \infty$ . Veamos un ejemplo

**Ejemplo 5.1.** Hallar con una tabla  $\lim_{x \rightarrow \infty} \frac{1}{x}$

*Solución:* Damos valores grandes positivos y negativos

$x \rightarrow -\infty$	$\frac{1}{x}$		$x \rightarrow \infty$
$-10^2$	-0,01	0,01	$10^2$
$-10^4$	-0,0001	0,0001	$10^4$
$-10^{12}$	$-10^{-12}$	$10^{-12}$	$10^{12}$

A medida que  $x \rightarrow \infty$ , o bien  $x \rightarrow -\infty$ , toma valores tan grandes como queramos positivos o negativos, la función  $f(x)$  se hace tan pequeña como se quiera, y decimos en este caso que la función  $f(x)$  tiende a 0


$$\lim_{x \rightarrow \infty} \frac{1}{x} = 0$$

□

Veamos otro ejemplo:

MaTeX

LÍMITES Y CONTINUIDAD





**Ejemplo 5.2.** Estudiar el comportamiento en el infinito de

$$f(x) = \frac{x+1}{x+2}$$

*Solución:* Se divide por la mayor potencia de  $x$ , y

$$f(x) = \frac{1 + \frac{1}{x}}{1 + \frac{2}{x}}$$

si hacemos  $x$  tan grande como queramos, bien para valores positivos o negativos, observamos que los sumandos  $\frac{1}{x}$  y  $\frac{2}{x}$  se hacen tan pequeños como queramos. De este modo la función se aproxima a 1 tanto como queramos. En símbolos tenemos que

$$\lim_{x \rightarrow \infty} \frac{x+1}{x+2} = \lim_{x \rightarrow \infty} \frac{1 + \frac{1}{x}}{1 + \frac{2}{x}} = 1$$

□

**EJERCICIO 2.** Indicar el comportamiento de las funciones cuando  $x$  tiende a infinito:

a)  $f(x) = \frac{2}{3x}$

b)  $g(x) = \frac{x}{x^2 - 1}$

c)  $h(x) = \frac{x^2 + 1}{x}$

MaTeX

LÍMITES Y CONTINUIDAD







## 6. Límites Indeterminados

Con las reglas que hemos aprendido de límites, se nos presentan situaciones más complicadas en las que no podemos dar la solución sin hacer un estudio detallado de la función. Por ejemplo

$$\lim_{x \rightarrow 1} \frac{x^2 - 1}{x - 1} = \frac{\lim_{x \rightarrow 1} (x^2 - 1)}{\lim_{x \rightarrow 1} (x - 1)} = \frac{0}{0} \quad \textit{indeterminado}$$

$$\lim_{x \rightarrow \infty} \frac{x^2 - 1}{2x^2 - 1} = \frac{\lim_{x \rightarrow \infty} (x^2 - 1)}{\lim_{x \rightarrow \infty} (2x^2 - 1)} = \frac{\infty}{\infty} \quad \textit{indeterminado}$$


$$\lim_{x \rightarrow \infty} (x - \sqrt{x^2 + 1}) = \infty - \infty \quad \textit{indeterminado}$$

A continuación veremos las técnicas necesarias para resolver estos casos indeterminados

Casos Indeterminados			
$\frac{0}{0}$	$\frac{\infty}{\infty}$	$0 \cdot \infty$	$\infty - \infty$

MaTeX

LÍMITES Y CONTINUIDAD





## 7. Cálculo de límites Indeterminados

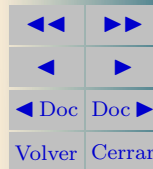
En esta sección veremos las técnicas necesarias para calcular límites cuando se presenta el caso indeterminado. Básicamente aprenderemos la técnica de cálculo:

- Por **descomposición** en factores de un polinomio.
- Por producto y división de la **mayor potencia** de  $x$ .
- y por producto y división del **conjugado** de un binomio

Indeterminaciones		
$\frac{0}{0}$	$\frac{\infty}{\infty}$	$\infty - \infty$

MaTeX

LÍMITES Y  
CONTINUIDAD





**Test.** Responde a las siguientes preguntas.

1. Cuando en un límite encontramos  $0 \times \infty$  el límite vale :

(a) 0                      (b)  $\infty$                       (c) No se sabe
2. Cuando en un límite encontramos  $-\infty \times \infty$  el límite vale :

(a)  $-\infty$                       (b)  $\infty$                       (c) 0                      (d) no se sabe
3. Cuando en un límite encontramos  $-\infty - \infty$  el límite vale :

(a)  $-\infty$                       (b)  $\infty$                       (c) 0                      (d) no se sabe
4. Cuando en un límite encontramos  $+\infty + \infty$  el límite vale :

(a)  $-\infty$                       (b)  $\infty$                       (c) 0                      (d) no se sabe
5. Cuando en un límite encontramos  $+\infty - \infty$  el límite vale :

(a)  $-\infty$                       (b)  $\infty$                       (c) 0                      (d) no se sabe
6. Cuando en un límite encontramos  $0 - \infty$  el límite vale :


(a)  $-\infty$                       (b)  $\infty$                       (c) 0                      (d) no se sabe
7. Cuando en un límite encontramos  $+\infty - 0$  el límite vale :

(a)  $-\infty$                       (b)  $\infty$                       (c) 0                      (d) no se sabe
8. Cuando en un límite encontramos  $\frac{\infty}{\infty}$  el límite vale :

(a)  $-\infty$                       (b)  $\infty$                       (c) 0                      (d) no se sabe

MaTeX

LÍMITES Y  
CONTINUIDAD





## 7.1. Cálculo de límites $\frac{0}{0}$

### ● Por factorización

Consiste en descomponer los polinomios en factores.

**Ejemplo 7.1.** Calcular los siguientes límites factorizando y simplificando:

$$\lim_{x \rightarrow 1} \frac{x^2 - 1}{x - 1} \quad \lim_{x \rightarrow 2} \frac{x^2 - 4}{x - 2} \quad \lim_{x \rightarrow 2} \frac{x^2 - 5x + 6}{x^2 - 4} \quad \lim_{x \rightarrow 0} \frac{x^2 - 5x}{x^2 - x}$$

*Solución:*

$$\lim_{x \rightarrow 1} \frac{x^2 - 1}{x - 1} = \frac{0}{0} = \lim_{x \rightarrow 1} \frac{(x - 1)(x + 1)}{x - 1} = \lim_{x \rightarrow 1} (x + 1) = 2$$

$$\lim_{x \rightarrow 2} \frac{x^2 - 4}{x - 2} = \frac{0}{0} = \lim_{x \rightarrow 2} \frac{(x - 2)(x + 2)}{x - 2} = \lim_{x \rightarrow 2} (x + 2) = 4$$

$$\lim_{x \rightarrow 2} \frac{x^2 - 5x + 6}{x^2 - 4} = \frac{0}{0} = \lim_{x \rightarrow 2} \frac{(x - 2)(x - 3)}{(x - 2)(x + 2)} = \lim_{x \rightarrow 2} \frac{(x - 3)}{(x + 2)} = -\frac{1}{4}$$

$$\lim_{x \rightarrow 0} \frac{x^2 - 5x}{x^2 - x} = \frac{0}{0} = \lim_{x \rightarrow 0} \frac{x(x - 5)}{x(x - 1)} = \lim_{x \rightarrow 0} \frac{x - 5}{x - 1} = 5$$

□

MaTeX

LÍMITES Y  
CONTINUIDAD





## • Por el conjugado

Consiste en multiplicar y dividir por el conjugado del denominador

**Ejemplo 7.2.** Calcular por el **conjugado**  $\lim_{x \rightarrow 1} \frac{\sqrt{x} - 1}{x - 1}$

*Solución:*

$$\begin{aligned} \lim_{x \rightarrow 1} \frac{\sqrt{x} - 1}{x - 1} &= \frac{0}{0} \quad \text{por el conjugado} \\ &= \lim_{x \rightarrow 1} \frac{(\sqrt{x} - 1)(\sqrt{x} + 1)}{(x - 1)(\sqrt{x} + 1)} = \lim_{x \rightarrow 1} \frac{x - 1}{(x - 1)(\sqrt{x} + 1)} = \frac{1}{2} \end{aligned}$$

□


**Ejemplo 7.3.** Calcular por el **conjugado**  $\lim_{x \rightarrow 0} \frac{1 - \sqrt{1 - x}}{x}$

*Solución:*

$$\begin{aligned} \lim_{x \rightarrow 0} \frac{1 - \sqrt{1 - x}}{x} &= \frac{0}{0} \quad \text{por el conjugado} \\ &= \lim_{x \rightarrow 0} \frac{1 - \sqrt{1 - x}}{x} \cdot \frac{1 + \sqrt{1 - x}}{1 + \sqrt{1 - x}} = \text{operar} \\ &= \lim_{x \rightarrow 0} \frac{x}{x(1 + \sqrt{1 - x})} = \lim_{x \rightarrow 0} \frac{1}{1 + \sqrt{1 - x}} = 1/2 \end{aligned}$$

□

MaTeX  
LÍMITES Y  
CONTINUIDAD





## 7.2. Cálculo de límites $\frac{\infty}{\infty}$

- Por división de la mayor potencia

**Ejemplo 7.4.** Para calcular el límite

$$\begin{aligned} \lim_{x \rightarrow \infty} \frac{x-1}{x} &= \frac{\infty}{\infty} && \text{dividimos por } x \\ &= \lim_{x \rightarrow \infty} \frac{(1 - \frac{1}{x})}{1} = \lim_{x \rightarrow \infty} (1 - \frac{1}{x}) = 1 \end{aligned}$$

**Ejemplo 7.5.** Para calcular el límite

$$\begin{aligned} \lim_{x \rightarrow \infty} \frac{2x^2 + 1}{x^2 + x} &= \frac{\infty}{\infty} && \text{dividimos por } x^2 \\ &= \lim_{x \rightarrow \infty} \frac{2 + \frac{1}{x^2}}{1 + \frac{1}{x}} = \frac{2 + 0}{1 + 0} = 2 \end{aligned}$$

**Ejemplo 7.6.** Como en el caso anterior

$$\begin{aligned} \lim_{x \rightarrow \infty} \frac{\sqrt{2x^2 + 1}}{2 + x} &= \frac{\infty}{\infty} && \text{dividimos por } x \\ &= \lim_{x \rightarrow \infty} \frac{\sqrt{2 + \frac{1}{x^2}}}{\frac{2}{x} + 1} = \frac{\sqrt{2 + 0}}{0 + 1} = \sqrt{2} \end{aligned}$$

MaTeX

LÍMITES Y  
CONTINUIDAD





**Ejemplo 7.7.** Calcular el límite  $\lim_{x \rightarrow \infty} \frac{2x^3 + 1}{x}$

*Solución:*

$$\begin{aligned} \lim_{x \rightarrow \infty} \frac{2x^3 + 1}{x} &= \frac{\infty}{\infty} && \text{dividimos por } x^3 \\ &= \lim_{x \rightarrow \infty} \frac{2 - \frac{1}{x^3}}{\frac{1}{x^3}} = \frac{2 - 0}{0} = \infty \end{aligned}$$

□

**Ejemplo 7.8.** Calcular el límite  $\lim_{x \rightarrow \infty} \frac{5x^2 + x}{x^3}$

*Solución:*

$$\begin{aligned} \lim_{x \rightarrow \infty} \frac{5x^2 + x}{x^3} &= \frac{\infty}{\infty} && \text{dividimos por } x^3 \\ &= \lim_{x \rightarrow \infty} \frac{\frac{5}{x} + \frac{1}{x^2}}{1} = \frac{0 + 0}{1} = 0 \end{aligned}$$

□

MaTeX

LÍMITES Y CONTINUIDAD





### 7.3. Cálculo de límites $\infty - \infty$

- **Se hacen operaciones**

En los más sencillos basta realizar operaciones y simplificar.

**Ejemplo 7.9.** Calcular el límite  $\lim_{x \rightarrow \infty} x - \frac{x^2 - 1}{x}$

*Solución:*

$$\begin{aligned} \lim_{x \rightarrow \infty} x - \frac{x^2 - 1}{x} &= \infty - \infty \quad \text{operamos} \\ &= \lim_{x \rightarrow \infty} \frac{x^2 - x^2 + 1}{x} = \lim_{x \rightarrow \infty} \frac{1}{x} = 0 \end{aligned}$$

□

**Ejemplo 7.10.** Calcular el límite  $\lim_{x \rightarrow \infty} \frac{x^2 + x}{x} - x$


*Solución:*

$$\begin{aligned} \lim_{x \rightarrow \infty} \frac{x^2 + x}{x} - x &= \infty - \infty \quad \text{operamos} \\ &= \lim_{x \rightarrow \infty} \frac{x^2 + x - x^2}{x} = \lim_{x \rightarrow \infty} \frac{x}{x} = 1 \end{aligned}$$

□

MaTeX

LÍMITES Y CONTINUIDAD







• **Por el conjugado**

**Ejemplo 7.11.** Calcular  $\lim_{x \rightarrow +\infty} \sqrt{1+x} - \sqrt{x}$  por el **conjugado**

*Solución:*

$$\begin{aligned} \lim_{x \rightarrow +\infty} \sqrt{1+x} - \sqrt{x} &= \infty - \infty \quad \text{por el conjugado} \\ &= \lim_{x \rightarrow +\infty} \frac{(\sqrt{1+x} - \sqrt{x})(\sqrt{1+x} + \sqrt{x})}{\sqrt{1+x} + \sqrt{x}} = \text{se opera} \\ &= \lim_{x \rightarrow +\infty} \frac{1}{\sqrt{1+x} + \sqrt{x}} = \frac{1}{\infty} = 0 \end{aligned}$$

□

**Ejemplo 7.12.** Calcular  $\lim_{x \rightarrow +\infty} \sqrt{1+x^2} - x$  por el **conjugado**

*Solución:*

$$\begin{aligned} \lim_{x \rightarrow +\infty} \sqrt{1+x^2} - x &= \infty - \infty \quad \text{por el conjugado} \\ &= \lim_{x \rightarrow +\infty} \frac{(\sqrt{1+x^2} - x)(\sqrt{1+x^2} + x)}{\sqrt{1+x^2} + x} = \text{se opera} \\ &= \lim_{x \rightarrow +\infty} \frac{1}{\sqrt{1+x^2} + x} = \frac{1}{\infty} = 0 \end{aligned}$$

□

MaTeX

LÍMITES Y CONTINUIDAD





**EJERCICIO 3.** Calcular los límites siguientes::

$$a) \lim_{x \rightarrow 0^+} \frac{2}{3x}$$

$$b) \lim_{x \rightarrow 1^+} \frac{3}{x^2 - 1}$$

$$c) \lim_{x \rightarrow 0^-} \frac{2}{3x}$$

$$d) \lim_{x \rightarrow 1^-} \frac{3}{x^2 - 1}$$

$$e) \lim_{x \rightarrow 1^-} \frac{1}{1 - x}$$

$$f) \lim_{x \rightarrow 1^+} \frac{1}{1 - x}$$

**EJERCICIO 4.** Calcular los límites siguientes::

$$a) \lim_{x \rightarrow 0^+} \frac{2x + 1}{x - 1}$$

$$b) \lim_{x \rightarrow 0^+} \frac{3 + x}{x^2 - 1}$$

$$c) \lim_{x \rightarrow 1^-} \frac{2x - 3}{3x}$$

$$d) \lim_{x \rightarrow 1^-} \frac{-3 + x}{x - 1}$$

$$e) \lim_{x \rightarrow +\infty} \frac{1}{1 - x}$$

$$f) \lim_{x \rightarrow +\infty} \frac{x^2}{1 + x}$$

$$g) \lim_{x \rightarrow +\infty} \frac{-x}{2 - x}$$

$$h) \lim_{x \rightarrow 2^+} \frac{1}{x - 2}$$

MaTeX

LÍMITES Y CONTINUIDAD



**EJERCICIO 5.** Calcular los límites siguientes dividiendo por la mayor potencia cuando sea necesario:

$$a) \lim_{x \rightarrow \infty} \frac{1}{x}$$

$$b) \lim_{x \rightarrow \infty} x + \frac{1}{x}$$

$$c) \lim_{x \rightarrow \infty} \frac{2x - 1}{1 + 3x}$$

$$d) \lim_{x \rightarrow -\infty} \frac{3x^2}{x - 1}$$

$$e) \lim_{x \rightarrow \infty} \frac{x^5}{x^{4,98} + 1}$$

$$f) \lim_{x \rightarrow -\infty} \frac{\sqrt{x}}{1 + x}$$

**EJERCICIO 6.** Calcular los límites siguientes por la técnica de descomposición:

$$a) \lim_{x \rightarrow 2} \frac{x^2 - x - 2}{x^2 + 3x - 10}$$

$$b) \lim_{x \rightarrow 1} \frac{x^2 - 4x + 3}{x^2 + 4x - 5}$$

$$c) \lim_{x \rightarrow 5} \frac{x^2 - 25}{x^2 - 10x + 25}$$

$$d) \lim_{x \rightarrow 2} \frac{\sqrt{x+2}}{\sqrt{x^2-4}}$$

**EJERCICIO 7.** Calcular los límites siguientes aplicando la técnica del conjugado::

$$a) \lim_{x \rightarrow 4^+} \frac{2 - \sqrt{x}}{x - 4}$$

$$b) \lim_{x \rightarrow 2^+} \frac{2 - \sqrt{x+2}}{x - 2}$$



MaTeX

LÍMITES Y  
CONTINUIDAD





## 7.4. Cálculo de límites $a^{\pm\infty}$

Analicemos el comportamiento de  $\mathbf{a}^x$  con  $0 < a \neq 1$  en algunos ejemplos

### Ejemplo 7.13.

- $1,2^5 = 2,4883$      $1,2^{15} = 15,4070$      $1,2^{35} = 590,6682$
- $0,8^5 = 0,3277$      $0,8^{15} = 0,0352$      $0,8^{35} = 0,00040565$

Así cuando  $x$  crece, las potencias de  $\mathbf{a}$  se hacen tan grandes como queramos o tan pequeñas como queramos dependiendo de si  $\mathbf{a}$  es mayor o menor que 1.

$$\blacktriangleright a > 1 \quad \lim_{x \rightarrow +\infty} a^x = +\infty \quad \blacktriangleright a < 1 \quad \lim_{x \rightarrow +\infty} a^x = 0 \quad (1)$$

Teniendo en cuenta la expresión

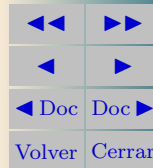
$$a^{-x} = \frac{1}{a^x} = \left(\frac{1}{a}\right)^x$$

se obtienen las expresiones

$$\blacktriangleright a > 1 \quad \lim_{x \rightarrow -\infty} a^x = 0 \quad \blacktriangleright a < 1 \quad \lim_{x \rightarrow -\infty} a^x = +\infty \quad (2)$$

MaTeX

LÍMITES Y  
CONTINUIDAD



**Ejemplo 7.14.**

- $\lim_{x \rightarrow +\infty} 1,2^x = +\infty$        $\lim_{x \rightarrow -\infty} 1,2^x = 0$
- $\lim_{x \rightarrow +\infty} \left(\frac{7}{3}\right)^x = +\infty$        $\lim_{x \rightarrow -\infty} \left(\frac{7}{3}\right)^x = 0$
- $\lim_{x \rightarrow +\infty} \left(\frac{4}{5}\right)^x = 0$        $\lim_{x \rightarrow -\infty} \left(\frac{4}{5}\right)^x = +\infty$

**Test.** Responde a las cuestiones:

1. El  $\lim_{x \rightarrow +\infty} 0,2^x$  es:

- (a) 0                                      (b)  $-\infty$                                       (c)  $\infty$

2. El  $\lim_{x \rightarrow +\infty} 3,1^{-x}$  es:

- (a) 0                                      (b)  $-\infty$                                       (c)  $\infty$

3. El  $\lim_{x \rightarrow -\infty} 3,1^{-x}$  es:

- (a) 0                                      (b)  $-\infty$                                       (c)  $\infty$

4. El  $\lim_{x \rightarrow +\infty} \left(\frac{3}{2}\right)^x$  es:

- (a) 0                                      (b)  $-\infty$                                       (c)  $\infty$

MaTeX

LÍMITES Y  
CONTINUIDAD





## 7.5. Cálculo de límites $f(x)^{g(x)}$

Si no hay problemas de indeterminación, el cálculo de dichos límites se realiza por paso al límite

$$\lim_{x \rightarrow a} f(x)^{g(x)} = \left( \lim_{x \rightarrow a} f(x) \right) \lim_{x \rightarrow a} g(x)$$

**Ejemplo 7.15.** Los siguientes límites son inmediatos con la regla anterior

*Solución:*

- $\lim_{x \rightarrow +\infty} \left( \frac{2x+1}{x} \right)^x = (2)^{+\infty} = +\infty$
- $\lim_{x \rightarrow +\infty} \left( \frac{2x+1}{3x} \right)^x = \left( \frac{2}{3} \right)^{+\infty} = 0$
- $\lim_{x \rightarrow +\infty} \left( \frac{2x+1}{3x} \right)^{-2x} = \left( \frac{2}{3} \right)^{-\infty} = +\infty$
- $\lim_{x \rightarrow +\infty} \left( \frac{5x+1}{3x-1} \right)^{-x} = \left( \frac{5}{3} \right)^{-\infty} = 0$
- $\lim_{x \rightarrow +\infty} \left( \frac{x+1}{3x+1} \right)^{-2x} = \left( \frac{1}{3} \right)^{-\infty} = +\infty$

□

MaTeX

LÍMITES Y  
CONTINUIDAD



## 8. El número $e$

Uno de los límites de mayor importancia lo estudió el matemático suizo Leonard Euler (1707-1783).

$$\lim_{x \rightarrow \infty} \left(1 + \frac{1}{x}\right)^x$$

Si pasamos al límite se tiene la expresión  $1^\infty$ , que nos hace pensar en las potencias de 1 y por tanto concluir erróneamente que  $1^\infty = 1$ .

Este no es el caso pues  $1 + \frac{1}{x} \neq 1$  para cualquier valor de  $x$ .

Para mostrarlo realicemos una tabla

$x$	$\left(1 + \frac{1}{x}\right)^x$	$x$	$\left(1 + \frac{1}{x}\right)^x$
10	2,59374246	10000	2,71814592
100	2,70481382	100000	2,71826823
1000	2,71692393	1000000	2,71828046


El límite corresponde a uno de los números más importantes de la matemática, el número  $e$

$$e = 2,7182818284590452353602874713527 \dots$$



MaTeX

LÍMITES Y CONTINUIDAD



El número  $e$ 

$$\lim_{x \rightarrow \infty} \left(1 + \frac{1}{x}\right)^x = e \quad (3)$$

El mismo resultado se obtiene si sustituimos  $x$  por cualquier variable que tienda a infinito.

$$\lim_{f(x) \rightarrow \infty} \left(1 + \frac{1}{f(x)}\right)^{f(x)} = e$$

Los siguientes límites dan todos el número  $e$ .

$$\lim_{x \rightarrow \infty} \left(1 + \frac{1}{2x}\right)^{2x} = e \quad \lim_{x \rightarrow \infty} \left(1 + \frac{1}{x^2}\right)^{x^2} = e$$

$$\lim_{x \rightarrow \infty} \left(1 + \frac{1}{x+2}\right)^{x+2} = e \quad \lim_{x \rightarrow \infty} \left(1 + \frac{1}{\sqrt{x}}\right)^{\sqrt{x}} = e$$

$$\lim_{x \rightarrow \infty} \left(1 + \frac{1}{x^3}\right)^{x^3} = e \quad \lim_{x \rightarrow \infty} \left(1 + \frac{1}{10x}\right)^{10x} = e$$



MaTeX

LÍMITES Y CONTINUIDAD





8.1. Cálculo de límites  $1^{\pm\infty}$ 

Todos los límites de la forma  $\alpha^\beta$  donde  $\begin{cases} \beta \rightarrow \infty \\ \alpha \rightarrow 1 \end{cases}$ , se pueden escribir como

$$\alpha^\beta = [1 + (\alpha - 1)]^{\frac{1}{\alpha - 1} \beta (\alpha - 1)}$$

y como

$$\alpha \rightarrow 1 \implies \frac{1}{\alpha - 1} \rightarrow \infty$$

$$\left[1 + \frac{1}{\frac{1}{\alpha - 1}}\right]^{\frac{1}{\alpha - 1}} \rightarrow e \implies \alpha^\beta \rightarrow e^{\beta(\alpha - 1)}$$

En general se tiene que

entonces


$$\begin{cases} \lim_{x \rightarrow a} g(x) = \infty \\ \lim_{x \rightarrow a} f(x) = 1 \end{cases} \quad \lim_{x \rightarrow a} f(x)g(x) = \lim_{x \rightarrow a} g(x)[f(x) - 1] \quad (4)$$

Esta es la fórmula que se utiliza para los límites de la forma  $1^{\pm\infty}$ .



MaTeX

LÍMITES Y CONTINUIDAD



**Ejemplo 8.1.** Calcular  $\lim_{x \rightarrow +\infty} \left( \frac{2x+1}{2x} \right)^x$

*Solución:*

$$\begin{aligned} \lim_{x \rightarrow +\infty} \left( \frac{2x+1}{2x} \right)^x &= 1^\infty = e^{\lim_{x \rightarrow +\infty} x \left( \frac{2x+1}{2x} - 1 \right)} = \\ &= e^{\lim_{x \rightarrow +\infty} x \left( \frac{1}{2x} \right)} = e^{1/2} = \sqrt{e} \end{aligned}$$

□

**Ejemplo 8.2.** Calcular  $\lim_{x \rightarrow +\infty} \left( \frac{2x+1}{2x-1} \right)^{-2x}$

*Solución:*


$$\begin{aligned} \lim_{x \rightarrow +\infty} \left( \frac{2x+1}{2x-1} \right)^{-2x} &= 1^\infty = e^{\lim_{x \rightarrow +\infty} -2x \left( \frac{2x+1}{2x-1} - 1 \right)} = \\ &= e^{\lim_{x \rightarrow +\infty} -2x \left( \frac{2}{2x-1} \right)} = e^{-2} \end{aligned}$$

□



MaTeX

LÍMITES Y CONTINUIDAD





**EJERCICIO 8.** Calcular los límites siguientes del tipo del número  $e$ :

$$a) \lim_{x \rightarrow +\infty} \left(1 + \frac{1}{x}\right)^{3x}$$

$$b) \lim_{x \rightarrow +\infty} \left(1 + \frac{2}{x^2}\right)^{-2x}$$

$$c) \lim_{x \rightarrow +\infty} \left(1 - \frac{x}{x^2 - 1}\right)^{x^2}$$

$$d) \lim_{x \rightarrow +\infty} \left(1 + \frac{8}{x}\right)^{x+3}$$

**EJERCICIO 9.** Calcular los límites siguientes del tipo del número  $e$ :

$$a) \lim_{x \rightarrow +\infty} \left(\frac{x+2}{x-3}\right)^x$$

$$b) \lim_{x \rightarrow +\infty} \left(\frac{x+1}{x-1}\right)^{3x}$$

$$c) \lim_{x \rightarrow +\infty} \left(\frac{x^2+x}{x^2-1}\right)^{-x}$$

$$d) \lim_{x \rightarrow +\infty} \left(\frac{\sqrt{x}+1}{\sqrt{x}-1}\right)^{3x}$$

**EJERCICIO 10.** Hallar los límites siguientes de potencias de una forma inmediata pues no necesitan ninguna técnica especial :

$$a) \lim_{x \rightarrow +\infty} \left(\frac{1}{2}\right)^x$$

$$b) \lim_{x \rightarrow -\infty} \left(\frac{1}{2}\right)^x$$

$$c) \lim_{x \rightarrow +\infty} \left(\frac{5x}{2x-1}\right)^x$$

$$d) \lim_{x \rightarrow +\infty} \left(\frac{1+3x}{2x}\right)^{-x}$$

$$e) \lim_{x \rightarrow +\infty} \left(\frac{x+2}{2x}\right)^{\frac{1}{x}}$$

$$f) \lim_{x \rightarrow -\infty} \left(\frac{2x+1}{x}\right)^{\frac{2x+1}{x}}$$

MaTeX

LÍMITES Y  
CONTINUIDAD



**EJERCICIO 11.** Calcular los límites siguientes dividiendo por la mayor potencia de  $x$  :

$$a) \lim_{x \rightarrow \infty} \frac{x^2 + 6}{4x^2 - 3}$$

$$b) \lim_{x \rightarrow \infty} \frac{3x^4 - 2x + 1}{x^4 + x^2 - 4}$$

$$c) \lim_{x \rightarrow \infty} \frac{\sqrt{x + \sqrt{2x}}}{\sqrt{x - \sqrt{2x}}}$$

$$d) \lim_{x \rightarrow \infty} \frac{\sqrt{2x \sqrt{2x \sqrt{2x}}}}{\sqrt{x \sqrt{x \sqrt{x}}}}$$

**EJERCICIO 12.** Calcular los límites siguientes aplicando la técnica del conjugado:


$$a) \lim_{x \rightarrow \infty} \frac{x - \sqrt{x^2 + 1}}{x}$$

$$b) \lim_{x \rightarrow \infty} \sqrt{x^2 + x} - \sqrt{x^2 + 2}$$



MaTeX

LÍMITES Y  
CONTINUIDAD

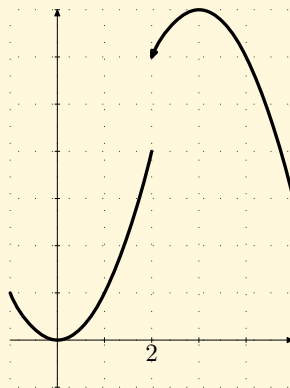




## 9. Continuidad

### 9.1. ¿Qué es una función continua?

Para una primera aproximación gráfica, si piensas en el grafo de una función, decimos que una función es continua cuando podemos recorrer el grafo de la función si tener que realizar ningún salto. Observa las figuras de abajo



La función de la izquierda no presenta ningún salto y decimos que es continua. La función de la derecha presenta un salto en el punto  $x = 2$ . Decimos que no es continua en este punto.

MaTeX

LÍMITES Y  
CONTINUIDAD





## 9.2. Definición de continuidad

**Definición 9.1** Sea  $f$  una función y  $a \in \text{Dom}(f)$  decimos que  $f$  es *continua* en  $x = a$  cuando

$$\lim_{x \rightarrow a} f(x) = f(a) \quad (5)$$

La continuidad de  $f$  en  $x = a$  implica que se cumplan las condiciones:

1. La función está definida en  $x = a$ , es decir exista  $f(a)$ .
2. Exista el límite de  $f$  en  $x = a$ .
3. Los dos valores anteriores coincidan.

## 10. Discontinuidad

**Definición 10.1** Decimos que una función es *discontinua* en el punto  $x = a$  cuando *no es continua* en  $x = a$ .


### Tipos de Discontinuidad

- **Evitable**, cuando  $\lim_{x \rightarrow a} f(x) \neq f(a)$
- **Salto finito**, cuando  $\lim_{x \rightarrow a^-} f(x) \neq \lim_{x \rightarrow a^+} f(x)$
- **Salto infinito**, cuando algún lateral  $\lim_{x \rightarrow a^-} f(x)$ ,  $\lim_{x \rightarrow a^+} f(x)$  es infinito

A continuación analizamos cada uno de los tipos de discontinuidad que hemos clasificado en el cuadro superior

MaTeX

LÍMITES Y  
CONTINUIDAD



## 10.1. Discontinuidad Evitable

Decimos que una función en el punto  $x = a$  presenta una discontinuidad **evitable** cuando existe  $\exists \lim_{x \rightarrow a} f(x) = L$  (finito), pero no coincide con  $f(a)$ .

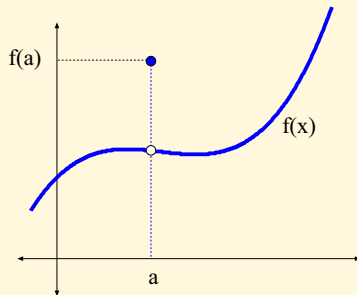
Se tiene que los límites laterales coinciden

$$\lim_{x \rightarrow a^-} f(x) = \lim_{x \rightarrow a^+} f(x) = L$$

pero

$$f(a) \neq L$$

$$\boxed{\exists \lim_{x \rightarrow a} f(x) \neq f(a)}$$



**Ejemplo 10.1.** Analizar la continuidad de la función  $f(x) = \frac{x^2 - 1}{x - 1}$ .

*Solución:*  $\lim_{x \rightarrow 1} f(x) = 2$  pero  $f(1)$  no existe, en  $x = 1$  presenta una discontinuidad evitable.

$$\begin{aligned} \lim_{x \rightarrow 1} f(x) &= \lim_{x \rightarrow 1} \frac{x^2 - 1}{x - 1} = \\ &= \lim_{x \rightarrow 1} \frac{(x - 1)(x + 1)}{x - 1} = \lim_{x \rightarrow 1} (x + 1) = 2 \end{aligned}$$

□



MaTeX

LÍMITES Y  
CONTINUIDAD





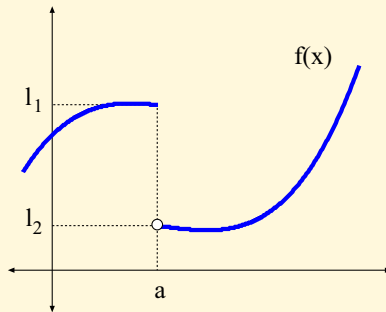
## 10.2. Discontinuidad de salto finito

Decimos que una función en el punto  $x = a$  presenta una discontinuidad de **salto finito** cuando existe los límites laterales y son distintos.

$$\left. \begin{aligned} \lim_{x \rightarrow a^-} f(x) &= l_1 \\ \lim_{x \rightarrow a^+} f(x) &= l_2 \end{aligned} \right\} l_1 \neq l_2$$

El salto de la función viene dado por

$$\lim_{x \rightarrow a^+} f(x) - \lim_{x \rightarrow a^-} f(x)$$



**Ejemplo 10.2.** Analizar la continuidad de  $f(x) = \begin{cases} x+1 & x \leq 0 \\ x^2 - 1 & 0 < x \end{cases}$


*Solución:* En  $x = 0$ ,  $f(0) = 1$ , pero los límites laterales

$$\left. \begin{aligned} \lim_{x \rightarrow 0^-} f(x) &= \lim_{x \rightarrow 0^-} x + 1 = 1 \\ \lim_{x \rightarrow 0^+} f(x) &= \lim_{x \rightarrow 0^+} x^2 - 1 = -1 \end{aligned} \right\} \implies f(0^-) \neq f(0^+)$$

son distintos, luego en  $x = 0$  hay una discontinuidad de salto finito.  $\square$

MaTeX

LÍMITES Y  
CONTINUIDAD





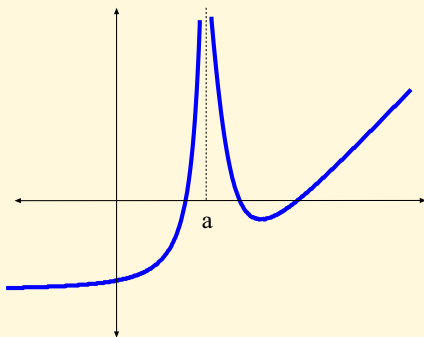


### 10.3. Discontinuidad de salto infinito

Decimos que una función en el punto  $x = a$  presenta una discontinuidad de **salto infinito** cuando algún límite lateral de  $f(x)$  en  $x = a$  es infinito. En las figuras se muestran dos ejemplos de salto infinito en  $x = a$ .

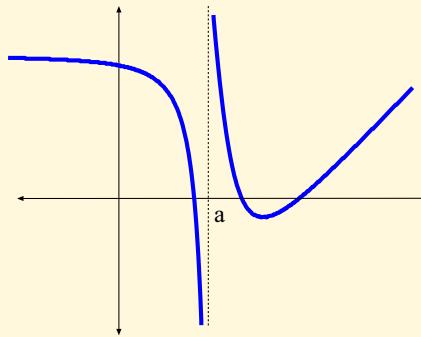
$$\lim_{x \rightarrow a^-} f(x) = +\infty$$

$$\lim_{x \rightarrow a^+} f(x) = +\infty$$



$$\lim_{x \rightarrow a^-} f(x) = -\infty$$

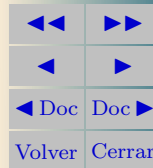
$$\lim_{x \rightarrow a^+} f(x) = +\infty$$



Estas funciones presentan una discontinuidad de salto infinito en  $x = a$ .

MaTeX

LÍMITES Y  
CONTINUIDAD





**Ejemplo 10.3.** Hallar  $a$  para que  $f(x)$  sea continua en  $x = 1$ .

$$f(x) = \begin{cases} x^3 - 1 & x \leq 1 \\ ax - 2 & 1 < x \end{cases}$$

*Solución:*

Para que sea continua en  $x = 1$

$$f(1^-) = 0 = f(1^+) = a - 2 \implies \boxed{a = 2}$$

□

**EJERCICIO 13.** Hallar  $a$  para que las funciones sean continuas en  $x = 1$ .

$$a) f(x) = \begin{cases} x + a & x \leq 1 \\ 2 & 1 < x \end{cases}$$

$$b) g(x) = \begin{cases} a^2 x & x \leq 1 \\ 1 & 1 < x \end{cases}$$

$$c) h(x) = \begin{cases} ax & x \leq 1 \\ x - a & 1 < x \end{cases}$$

$$d) y(x) = \begin{cases} a^2 x + 2 & x \leq 1 \\ 1 & 1 < x \end{cases}$$

**EJERCICIO 14.** Dada la función

$$f(x) = \begin{cases} 2x + a & x \leq -1 \\ -x^2 + 2 & -1 < x \leq 1 \\ \ln x & 1 < x \end{cases}$$

a) Hallar  $a$  para que  $f(x)$  sea continua en  $x = -1$

b) ¿Es continua en  $x = 1$ ?

MaTeX

LÍMITES Y CONTINUIDAD



## 11. Asíntotas

En este apartado usaremos el concepto de límite para mostrar el aspecto gráfico de las funciones.

Cuando una función en la proximidad de un punto  $x = \mathbf{a}$  o en el **infinito** se aproxima a una recta tanto como queramos decimos que tiene una **asíntota** o que la función tiene una rama asintótica. En caso contrario decimos que tiene una rama **parabólica**.


- Las funciones polinómicas  $y = P(x)$  no tienen asíntotas, solo ramas parabólicas.
- Las funciones racionales  $y = \frac{P(x)}{Q(x)}$ , donde  $P(x)$  y  $Q(x)$  son polinomios puede tener asíntotas de tres tipos:
  - a) asíntota horizontal
  - b) asíntota vertical
  - c) o asíntota oblicua

Vamos a analizar con detalle estos tres tipos de asíntotas para las funciones racionales.



MaTeX

LÍMITES Y  
CONTINUIDAD





## 11.1. Asíntota Vertical

**Asíntota Vertical** Cuando en un punto  $x = a$  se tiene

$$\lim_{x \rightarrow a} f(x) = \infty$$

decimos que la función presenta una rama infinita o asíntota Vertical

**Ejemplo 11.1.** Halla y representa la asíntota vertical de  $y = \frac{1}{x}$

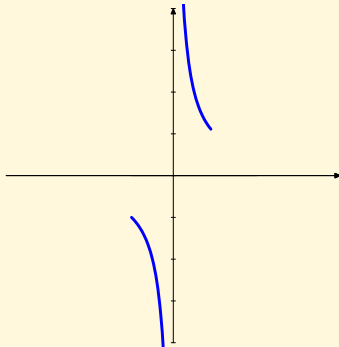
*Solución:*

$$f(x) = \frac{1}{x}$$

tiene como asíntota vertical el eje  $OY$ ,  $x = 0$ .


$$\lim_{x \rightarrow 0^+} \frac{1}{x} = +\infty$$

$$\lim_{x \rightarrow 0^-} \frac{1}{x} = -\infty$$



MaTeX

LÍMITES Y  
CONTINUIDAD



□



**Ejemplo 11.2.** Halla la asíntotas de  $f(x) = \frac{1}{x-1}$  y  $g(x) = \frac{1}{x^2-1}$

*Solución:*

$$f(x) = \frac{1}{x-1} \text{ tiene } x = 1.$$

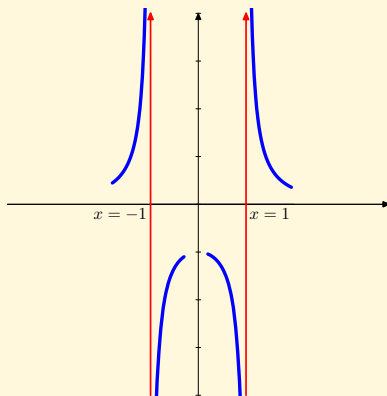
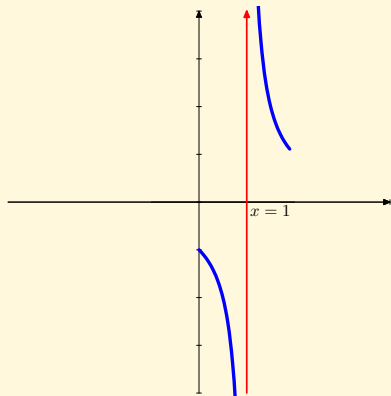
$$g(x) = \frac{1}{x^2-1} \text{ tiene } x = \pm 1$$

$$\lim_{x \rightarrow 1^+} \frac{1}{x-1} = +\infty$$

$$\lim_{x \rightarrow 1^+} \frac{1}{x^2-1} = +\infty \quad \lim_{x \rightarrow 1^-} \frac{1}{x^2-1} = -\infty$$


$$\lim_{x \rightarrow 1^-} \frac{1}{x-1} = -\infty$$

$$\lim_{x \rightarrow -1^+} \frac{1}{x^2-1} = -\infty \quad \lim_{x \rightarrow -1^-} \frac{1}{x^2-1} = +\infty$$



MaTeX

LÍMITES Y  
CONTINUIDAD



□



**Ejemplo 11.3.** Halla y representa la asíntota vertical de  $y = \frac{1}{x^2 - 2x}$

*Solución:*

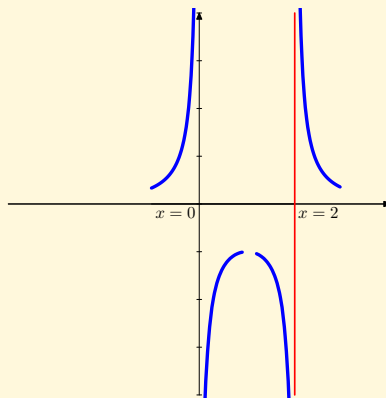
$f(x) = \frac{1}{x^2 - 2x}$  dos asíntotas verticales  $x = 0$  y  $x = 2$

$$\lim_{x \rightarrow 1^+} \frac{1}{x^2 - x} = +\infty$$

$$\lim_{x \rightarrow 1^-} \frac{1}{x^2 - x} = -\infty$$

$$\lim_{x \rightarrow 0^+} \frac{1}{x^2 - x} = -\infty$$

$$\lim_{x \rightarrow 0^-} \frac{1}{x^2 - x} = +\infty$$



□


**EJERCICIO 15.** Hallar y representar, si las hay, las asíntotas verticales de las funciones:

a)  $f(x) = \frac{2+x}{3-x}$

b)  $g(x) = \frac{x^2}{x+1}$

MaTeX

LÍMITES Y  
CONTINUIDAD





## 11.2. Asíntota Horizontal

**Asíntota Horizontal** Cuando se tiene

$$\lim_{x \rightarrow \infty} f(x) = L$$

decimos que la función tiene la asíntota horizontal  $y = L$

**Ejemplo 11.4.** Halla y representa la asíntota horizontal de  $y = \frac{1}{x}$

*Solución:*

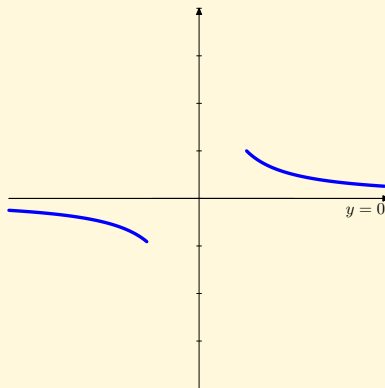
$$f(x) = \frac{1}{x} \text{ tiene } y = 0$$

$$\lim_{x \rightarrow +\infty} \frac{1}{x} = 0$$

Para dibujarla, lo más cómodo es dar valores grandes a  $x$ .

$$\text{Si } x > 0 \implies \frac{1}{x} > 0$$


$$\text{Si } x < 0 \implies \frac{1}{x} < 0$$



□

MaTeX

LÍMITES Y  
CONTINUIDAD





**Ejemplo 11.5.** Halla y representa la asíntota horizontal de  $y = \frac{x+1}{x}$

*Solución:*

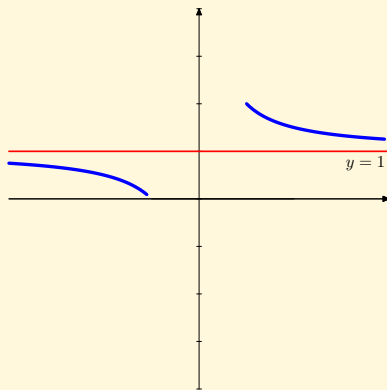
Asíntotas horizontal  $y = 1$   
pues

$$\lim_{x \rightarrow \infty} \frac{x+1}{x} = 1$$

Para dibujarla, lo más cómodo es dar valores «grandes» a  $x$ .

$$\text{Si } x = 10 \implies \frac{10+1}{10} > 1$$

$$\text{Si } x = -10 \implies \frac{(-10)+1}{-10} < 1$$




□

**EJERCICIO 16.** Hallar y representar, si las hay, las asíntotas horizontales de las funciones:

$$a) f(x) = \frac{2+x}{3-x}$$

$$b) g(x) = \frac{x^2}{x^2+1}$$

MaTeX

LÍMITES Y  
CONTINUIDAD





**Test.** Dada la función  $f(x) = \frac{x+1}{x-1}$ , responder a:

1. El dominio de  $f(x)$  es:

- (a)  $R$  (b)  $R - \{1\}$  (c)  $R - \{0\}$

2. El  $\lim_{x \rightarrow 1^+} f(x)$  es:

- (a) 2 (b)  $+\infty$  (c)  $-\infty$

3. El  $\lim_{x \rightarrow 1^-} f(x)$  es:

- (a) -2 (b)  $+\infty$  (c)  $-\infty$

4. El  $\lim_{x \rightarrow 0} f(x)$  es:

- (a) 0 (b) 1 (c) -1

5. El  $\lim_{x \rightarrow \infty} f(x)$  es:

- (a) 0 (b) 1 (c) -1

6. La asíntota horizontal de la función es:


- (a) ninguna (b)  $y = 1$  (c)  $y = -1$

7. La asíntota vertical de la función es:

- (a) ninguna (b)  $x = -1$  (c)  $x = 1$

MaTeX

LÍMITES Y  
CONTINUIDAD





### 11.3. Asíntota Oblicua

Una función  $f(x)$  en la proximidad del infinito  $x \rightarrow \infty$  decimos que tiene como **asíntota oblicua**, cuando se aproxima a una recta

$$y = mx + n$$

Primero explicamos como calcularlas para las funciones racionales y después damos una expresión más general. Sea la función

$$y = f(x) = \frac{x^2 + 1}{x}$$

Si dividimos, la podemos expresar como

$$f(x) = x + \frac{1}{x}$$

y para valores de  $x$  tan grandes como queramos, cuando  $x \rightarrow \infty$ , como  $\frac{1}{x} \rightarrow 0$  tenemos que

$$f(x) = x + \frac{1}{x} \approx \boxed{x}$$

es decir para valores de  $x$  “grandes” la función toma valores cercanos a  $x$ , y por tanto su gráfica se aproxima a la recta  $y = x$ . En este caso la asíntota oblicua es

$$y_0 = x$$

MaTEX

LÍMITES Y  
CONTINUIDAD

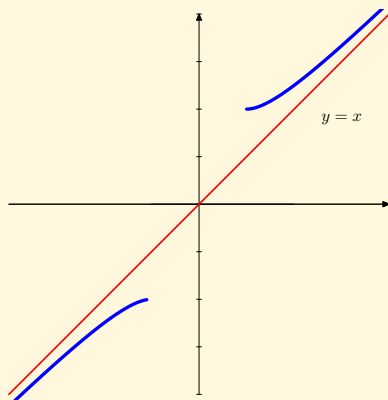


$$f(x) = \frac{x^2 + 1}{x} = x + \frac{1}{x}$$

Aíntota oblicua  $y = x$

$$x \rightarrow +\infty \quad f(x) > x$$

$$x \rightarrow -\infty \quad f(x) < x$$



**Asíntota Oblicua** La función racional  $f(x) = \frac{P(x)}{Q(x)}$  con


$$f(x) = \frac{P(x)}{Q(x)} = C(x) + \frac{R(x)}{Q(x)}$$

tiene la asíntota oblicua  $y_0 = C(x)$  siempre y cuando el grado del numerador sea una **unidad mayor** que el grado del denominador.



MaTeX

LÍMITES Y  
CONTINUIDAD



Así pues para determinar la asíntota oblicua se dividen los polinomios y se toma el cociente cuando es de grado uno, es decir una recta. En el siguiente ejemplo se muestra como se calcula.

**Ejemplo 11.6.** Veamos algunos ejemplos:

$$f(x) = \frac{x^2 + 2}{x - 1} = \boxed{x - 1} + \frac{3}{x - 1} \quad y_o = x - 1$$

$$g(x) = \frac{3x^2 - 1}{x + 1} = \boxed{3x - 3} + \frac{2}{x + 1} \quad y_o = 3x - 3$$

$$h(x) = \frac{x^2 + x + 1}{1 - x} = \boxed{-x - 2} + \frac{3}{1 - x} \quad y_o = -x - 2$$

$$j(x) = \frac{x^3 + 1}{x} = \boxed{x^2} + \frac{1}{x} \quad \text{No hay oblicua}$$

$$k(x) = \frac{x + 1}{x} = \boxed{1} + \frac{1}{x} \quad y = 1 \text{ horizontal}$$

$$h(x) = \frac{2 - x^2}{x} = \boxed{-x} + \frac{2}{x} \quad y_o = -x$$

**EJERCICIO 17.** Hallar y representar, si las hay, las asíntotas oblicuas de las funciones:

$$a) f(x) = \frac{2 + x^2}{2 + x}$$

$$b) g(x) = \frac{x^2 - 2}{1 - x}$$



MaTeX

LÍMITES Y  
CONTINUIDAD





**Ejemplo 11.7.** Hallar y representar la oblicua de  $f(x) = \frac{x^2}{x+1}$

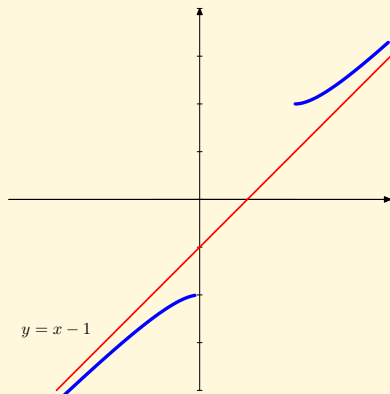
*Solución:*

Dividimos y

$$\frac{x^2}{x+1} = \boxed{x-1} + \frac{1}{x+1}$$

$$y_0 = x - 1$$

$$\bullet \underbrace{f(x) > x-1}_{x \rightarrow +\infty} \quad \underbrace{f(x) < x-1}_{x \rightarrow -\infty}$$



Para explicar la posición  $\bullet$  de la curva respecto a la asíntota, lo más fácil, es dar un valor a  $x$  lo suficientemente grande, y comparar el valor de la función y de la asíntota. Por ejemplo en  $x = 10$  y  $x = -10$ .


$$f(10) = 9,09 \quad y_0(10) = 9 \implies f(x) > y_0$$

$$f(-10) = -11,11 \quad y_0(-10) = -11 \implies f(x) < y_0$$

□

MaTeX

LÍMITES Y  
CONTINUIDAD



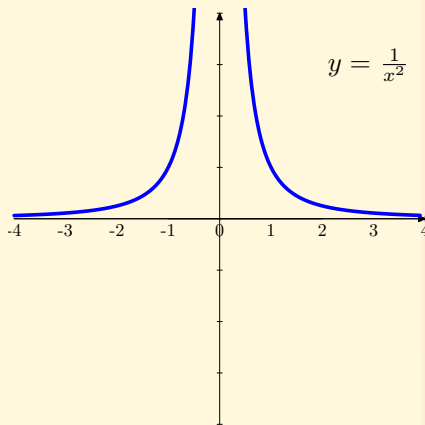


**Ejemplo 11.8.** Estudiar y representar las asíntotas de la función

$$y = \frac{1}{x^2}$$

*Solución:*

Ramas del Infinito de $\frac{1}{x^2}$	
$\lim_{x \rightarrow 0^+} \frac{1}{x^2}$	$+\infty$
$\lim_{x \rightarrow 0^-} \frac{1}{x^2}$	$+\infty$
$\lim_{x \rightarrow +\infty} \frac{1}{x^2}$	0
$\lim_{x \rightarrow -\infty} \frac{1}{x^2}$	0




La función presenta:

- una asíntota vertical en  $x = 0$
- una asíntota horizontal  $y = 0$

□

MaTeX

LÍMITES Y  
CONTINUIDAD

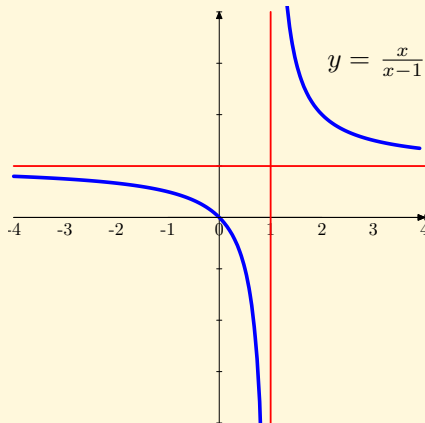




## 12. Cuestionarios

**Inicio del Test** A partir de la gráfica de la función  $f(x)$ , responder a:


- El dominio de  $f(x)$  es:  
 (a)  $\mathcal{R}$       (b)  $\mathcal{R} - \{1\}$
- El  $\lim_{x \rightarrow 1^+} f(x)$  es:  
 (a) 2      (b)  $+\infty$       (c)  $-\infty$
- El  $\lim_{x \rightarrow 1^-} f(x)$  es:  
 (a) -2      (b)  $+\infty$       (c)  $-\infty$
- El  $\lim_{x \rightarrow 0} f(x)$  es:  
 (a) 0      (b) 1      (c)  $-\frac{1}{2}$
- El  $\lim_{x \rightarrow \infty} f(x)$  es:  
 (a) 0      (b) 1      (c) -1



**Final del Test**

MaTeX

LÍMITES Y  
CONTINUIDAD





**Inicio del Test** Dada la función  $f(x) = \frac{1}{x-2}$ , responder a:

- El dominio de  $f(x)$  es:
  - $\mathcal{R}$
  - $\mathcal{R} - \{2\}$
  - $\mathcal{R} - \{1\}$
- El  $\lim_{x \rightarrow 2^+} f(x)$  es:
  - 2
  - $+\infty$
  - $-\infty$
- El  $\lim_{x \rightarrow 2^-} f(x)$  es:
  - 2
  - $+\infty$
  - $-\infty$
- El  $\lim_{x \rightarrow 0} f(x)$  es:
  - 0
  - 1
  - $-\frac{1}{2}$
- El  $\lim_{x \rightarrow \infty} f(x)$  es:
  - 0
  - 1
  - 1
- La asíntota vertical de  $f(x)$  es:
  - $x = 2$
  - $x = 0$
  - no tiene

**Final del Test**

MaTeX

LÍMITES Y  
CONTINUIDAD







**Inicio del Test** Dada la función  $f(x) = \frac{\sqrt{x}}{x+1}$ , responder a:

1. El dominio de  $f(x)$  es:

- (a)  $\mathcal{R}$                       (b)  $\mathcal{R} - \{-1\}$                       (c)  $[0, \infty)$                       (d)  $(0, \infty)$

2. El límite en  $x = -1$  por la derecha,  $f(-1^+)$  es:

- (a)  $\nexists$                       (b)  $+\infty$                       (c)  $-\infty$

3. El  $\lim_{x \rightarrow 1} f(x)$  es:

- (a)  $\nexists$                       (b)  $+\infty$                       (c)  $\frac{1}{2}$

4. El  $\lim_{x \rightarrow 0} f(x)$  es:

- (a) 0                      (b) 1                      (c)  $-\frac{1}{2}$

5. El  $\lim_{x \rightarrow +\infty} f(x)$  es:

- (a) 0                      (b) 1                      (c)  $\infty$

**Final del Test**

MaTeX

LÍMITES Y  
CONTINUIDAD





En las siguientes cuestiones abreviamos  $\lim_{x \rightarrow +\infty} f(x)$  como  $f(+\infty)$

**Inicio del Test** A partir de las funciones,

$$f(x) = (1,3)^{2x} \qquad g(x) = (0,3)^{2x}$$

responder a las cuestiones.

1. El valor de  $f(+\infty)$  es?

(a) 0                                      (b)  $+\infty$                                       (c)  $-\infty$

2. El valor de  $f(-\infty)$  es?

(a) 0                                      (b)  $+\infty$                                       (c)  $-\infty$

3. El valor de  $g(+\infty)$  es?

(a) 0                                      (b)  $+\infty$                                       (c)  $-\infty$

4. El valor de  $g(-\infty)$  es?

(a) 0                                      (b)  $+\infty$                                       (c)  $-\infty$


5. El valor de  $g(\infty)$  es?

(a)  $\nexists$                                       (b)  $+\infty$                                       (c)  $-\infty$

**Final del Test**

MaTeX

LÍMITES Y  
CONTINUIDAD





**Inicio del Test** A partir de la gráfica de la función  $f(x)$ , responder a:

1. El dominio de  $f(x)$  es:

(a)  $\mathcal{R}$       (b)  $\mathcal{R} - \{0\}$

2. El  $\lim_{x \rightarrow 0^+} f(x)$  es:

(a) 0      (b)  $+\infty$       (c)  $-\infty$

3. El  $\lim_{x \rightarrow 0^-} f(x)$  es:

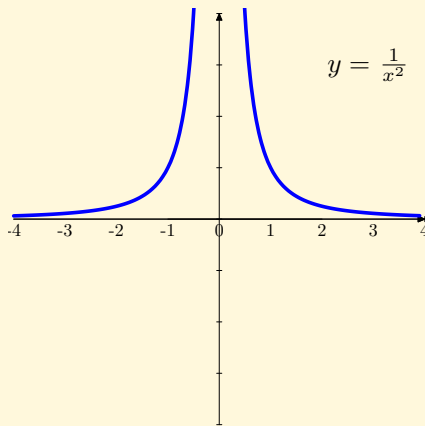
(a) -2      (b)  $+\infty$       (c)  $-\infty$

4. El  $\lim_{x \rightarrow 0} f(x)$  es:

(a) 0      (b) 1      (c)  $+\infty$

5. El  $\lim_{x \rightarrow \infty} f(x)$  es:

(a) 0      (b) 1      (c) -1



**Final del Test**

MaTeX

LÍMITES Y  
CONTINUIDAD





**EJERCICIO 18.** Estudiar y representar las asíntotas de la función

$$y = \frac{1}{x - 1}$$

**EJERCICIO 19.** Estudiar y representar las asíntotas de la función

$$y = \frac{x}{x - 1}$$

**EJERCICIO 20.** Estudiar y representar las asíntotas de la función

$$y = \frac{1}{x^2 - 1}$$

**EJERCICIO 21.** Estudia y representa con las asíntotas la función:

$$y = \frac{x^2 + 1}{x}$$

**EJERCICIO 22.** Estudia y representa con las asíntotas la función:

$$y = \frac{x^2 - 4}{x + 1}$$

**EJERCICIO 23.** Estudia y representa con las asíntotas la función:

$$y = \frac{x^3 - 3x^2 + 4}{x^2}$$

MaTeX

LÍMITES Y  
CONTINUIDAD





## Soluciones a los Ejercicios

**Ejercicio 1.** Estas funciones son de tipo racional y presentan puntos donde divergen a infinito en los valores que anulan el denominador.

$$a) f(x) = \frac{2}{3x}. \text{ En } x = 0$$

$$\lim_{x \rightarrow 0} \frac{2}{3x} = \frac{2}{0} = \infty$$

$$b) g(x) = \frac{2}{x^2 - 1}. \text{ En } x = \pm 1$$

$$\lim_{x \rightarrow -1} \frac{2}{x^2 - 1} = \frac{2}{0} = \infty \quad \lim_{x \rightarrow 1} \frac{2}{x^2 - 1} = \frac{2}{0} = \infty$$


$$c) h(x) = \frac{x}{1+x}. \text{ En } x = -1$$

$$\lim_{x \rightarrow -1} \frac{x}{1+x} = \frac{-1}{0} = \infty$$

Ejercicio 1

MaTeX

LÍMITES Y  
CONTINUIDAD



**Ejercicio 2.** Indicar el comportamiento de las funciones cuando  $x$  tiende a infinito:

$$a) \lim_{x \rightarrow \infty} \frac{2}{3x} = \frac{2}{\infty} = 0$$

b) Dividimos por  $x^2$

$$\lim_{x \rightarrow \infty} \frac{x}{x^2 - 1} = \lim_{x \rightarrow \infty} \frac{\frac{1}{x}}{1 - \frac{1}{x^2}} = \frac{0}{1 - 0} = 0$$

c) Dividimos por  $x^2$


$$\lim_{x \rightarrow \infty} \frac{x^2 + 1}{x} = \lim_{x \rightarrow \infty} \frac{1 + \frac{1}{x^2}}{\frac{1}{x}} = \frac{1 + 0}{0} = \infty$$

Ejercicio 2



MaTeX

LÍMITES Y  
CONTINUIDAD



**Ejercicio 3.**

$$a) \lim_{x \rightarrow 0^+} \frac{2}{3x} = \frac{2}{0^+} = +\infty$$

$$b) \lim_{x \rightarrow 1^+} \frac{3}{x^2 - 1} = \frac{3}{0^+} = +\infty$$

$$c) \lim_{x \rightarrow 0^-} \frac{2}{3x} = \frac{2}{0^-} = -\infty$$

$$d) \lim_{x \rightarrow 1^-} \frac{3}{x^2 - 1} = \frac{3}{0^-} = -\infty$$


$$e) \lim_{x \rightarrow 1^-} \frac{1}{1 - x} = \frac{1}{0^+} = +\infty$$

$$f) \lim_{x \rightarrow 1^+} \frac{1}{1 - x} = \frac{1}{0^-} = -\infty$$

MaTeX

LÍMITES Y  
CONTINUIDAD

Ejercicio 3





## Ejercicio 4.

$$a) \lim_{x \rightarrow 0^+} \frac{2x + 1}{x - 1} = \frac{0 + 1}{0 - 1} = -1$$

$$b) \lim_{x \rightarrow 0^+} \frac{3 + x}{x^2 - 1} = \frac{3 + 0}{0 - 1} = -3$$

$$c) \lim_{x \rightarrow 1^-} \frac{2x - 3}{3x} = \frac{2 - 3}{3} = -\frac{1}{3}$$

$$d) \lim_{x \rightarrow 1^-} \frac{-3 + x}{x - 1} = \frac{-2}{0^-} = +\infty$$

$$e) \lim_{x \rightarrow +\infty} \frac{1}{1 - x} = \frac{1}{-\infty} = 0$$

$$f) \lim_{x \rightarrow +\infty} \frac{x^2}{1 + x} = +\infty$$


$$g) \lim_{x \rightarrow +\infty} \frac{-x}{2 - x} = 1$$

$$h) \lim_{x \rightarrow 2^+} \frac{1}{x - 2} = \frac{1}{0^+} = +\infty$$

MaTeX

LÍMITES Y CONTINUIDAD

Ejercicio 4







**Ejercicio 5.** En el caso necesario dividimos por la mayor potencia:

$$a) \lim_{x \rightarrow \infty} \frac{1}{x} = \frac{1}{\infty} = 0$$

$$b) \lim_{x \rightarrow \infty} x + \frac{1}{x} = \infty + 0 = \infty$$

$$c) \lim_{x \rightarrow \infty} \frac{2x - 1}{1 + 3x} = \lim_{x \rightarrow \infty} \frac{2 - \frac{1}{x}}{\frac{1}{x} + 3} = \frac{2 - 0}{0 + 3} = \frac{2}{3}$$

$$d) \lim_{x \rightarrow -\infty} \frac{3x^2}{x - 1} = \lim_{x \rightarrow -\infty} \frac{3}{\frac{1}{x} - \frac{1}{x^2}} = \frac{3}{0^-} = -\infty$$


$$e) \lim_{x \rightarrow \infty} \frac{x^5}{x^{4,98} + 1} = \lim_{x \rightarrow \infty} \frac{x^5}{x^{4,98}} = \infty$$

$$f) \lim_{x \rightarrow -\infty} \frac{\sqrt{x}}{1 + x} = \nexists$$

MaTeX

LÍMITES Y  
CONTINUIDAD

Ejercicio 5





**Ejercicio 6.** Se descompone en factores y se simplifica:

a)

$$\lim_{x \rightarrow 2} \frac{x^2 - x - 2}{x^2 + 3x - 10} = \frac{0}{0} = \lim_{x \rightarrow 2} \frac{(x-2)(x+1)}{(x-2)(x+5)} = \lim_{x \rightarrow 2} \frac{x+1}{x+5} = \frac{3}{7}$$

b)

$$\lim_{x \rightarrow 1} \frac{x^2 - 4x + 3}{x^2 + 4x - 5} = \frac{0}{0} = \lim_{x \rightarrow 1} \frac{(x-1)(x-3)}{(x-1)(x+5)} = \lim_{x \rightarrow 1} \frac{x-3}{x+5} = -\frac{1}{3}$$

c)

$$\lim_{x \rightarrow 5} \frac{x^2 - 25}{x^2 - 10x + 25} = \frac{0}{0} = \lim_{x \rightarrow 5} \frac{(x-5)(x+5)}{(x-5)(x-5)} = \lim_{x \rightarrow 5} \frac{x+5}{x-5} = \frac{10}{0} = \infty$$


d)

$$\lim_{x \rightarrow 2} \frac{\sqrt{x-2}}{\sqrt{x^2-4}} = \frac{0}{0} = \lim_{x \rightarrow 2} \frac{\sqrt{x-2}}{\sqrt{(x-2)(x+2)}} = \lim_{x \rightarrow 2} \frac{1}{\sqrt{x+2}} = \frac{1}{2}$$

Ejercicio 6

MaTeX

LÍMITES Y  
CONTINUIDAD





**Ejercicio 7.** En estos límites aplicamos la técnica del conjugado:

a)

$$\begin{aligned} \lim_{x \rightarrow 4^+} \frac{2 - \sqrt{x}}{x - 4} &= \frac{0}{0} = \lim_{x \rightarrow 4^+} \frac{2 - \sqrt{x}}{x - 4} \cdot \frac{2 + \sqrt{x}}{2 + \sqrt{x}} \\ &= \lim_{x \rightarrow 4^+} \frac{4 - x}{(x - 4)(2 + \sqrt{x})} \\ &= \lim_{x \rightarrow 4^+} \frac{-1}{2 + \sqrt{x}} = -\frac{1}{4} \end{aligned}$$


b)

$$\begin{aligned} \lim_{x \rightarrow 2^+} \frac{2 - \sqrt{x + 2}}{x - 2} &= \frac{0}{0} = \lim_{x \rightarrow 2^+} \frac{2 - \sqrt{x + 2}}{x - 2} \cdot \frac{2 + \sqrt{x + 2}}{2 + \sqrt{x + 2}} \\ &= \lim_{x \rightarrow 2^+} \frac{2 - x}{(x - 2)(2 + \sqrt{x + 2})} \\ &= \lim_{x \rightarrow 2^+} \frac{-1}{2 + \sqrt{x + 2}} = -\frac{1}{4} \end{aligned}$$

Ejercicio 7

MaTeX

LÍMITES Y  
CONTINUIDAD





**Ejercicio 8.** En estos límites aplicamos la **fórmula 4**:

$$a) \lim_{x \rightarrow +\infty} \left(1 + \frac{1}{x}\right)^{3x} = 1^\infty = e^{x \rightarrow +\infty} 3x \left(1 + \frac{1}{x} - 1\right) = e^3$$

b)

$$\begin{aligned} \lim_{x \rightarrow +\infty} \left(1 + \frac{2}{x^2}\right)^{-2x} &= 1^\infty = e^{x \rightarrow +\infty} -2x \left(\frac{2}{x^2}\right) = \\ &= e^{x \rightarrow +\infty} -\frac{4}{x} = e^0 = 1 \end{aligned}$$

c)

$$\begin{aligned} \lim_{x \rightarrow +\infty} \left(1 - \frac{x}{x^2 - 1}\right)^{x^2} &= 1^\infty = e^{x \rightarrow +\infty} -x^2 \left(\frac{x}{x^2 - 1}\right) \\ &= e^{x \rightarrow +\infty} \frac{-x^3}{x^2 - 1} = e^{-\infty} = 0 \end{aligned}$$

$$d) \lim_{x \rightarrow +\infty} \left(1 + \frac{8}{x}\right)^{x+3} = e^{x \rightarrow +\infty} (x+3) \left(\frac{8}{x}\right) = e^8$$

Ejercicio 8

MaTeX

LÍMITES Y  
CONTINUIDAD





**Ejercicio 9.** En estos límites aplicamos la **fórmula 4**:

a)

$$\lim_{x \rightarrow +\infty} \left( \frac{x+2}{x+3} \right)^x = 1^\infty = e^{\lim_{x \rightarrow +\infty} x \left( \frac{x+2}{x+3} - 1 \right)} = e^{\lim_{x \rightarrow +\infty} \frac{-x}{x+3}} = e^{-1}$$

b)

$$\lim_{x \rightarrow +\infty} \left( \frac{x+1}{x-1} \right)^{3x} = 1^\infty = e^{\lim_{x \rightarrow +\infty} 3x \left( \frac{x+1}{x-1} - 1 \right)} = e^{\lim_{x \rightarrow +\infty} \frac{6x}{x-1}} = e^6$$

c)

$$\lim_{x \rightarrow +\infty} \left( \frac{x^2+x}{x^2-1} \right)^{-x} = e^{\lim_{x \rightarrow +\infty} -x \left( \frac{x^2+x}{x^2-1} - 1 \right)} = e^{\lim_{x \rightarrow +\infty} \frac{-x^2-x}{x^2-1}} = e^{-1}$$

d)

$$\lim_{x \rightarrow +\infty} \left( \frac{\sqrt{x}+1}{\sqrt{x}-1} \right)^{3x} = e^{\lim_{x \rightarrow +\infty} 3x \left( \frac{\sqrt{x}+1}{\sqrt{x}-1} - 1 \right)} = e^{\lim_{x \rightarrow +\infty} \frac{6x}{\sqrt{x}-1}} = +\infty$$

MaTeX

LÍMITES Y  
CONTINUIDAD



Ejercicio 9

**Ejercicio 10.**

$$a) \lim_{x \rightarrow +\infty} \left(\frac{1}{2}\right)^x = \mathbf{0}$$

$$b) \lim_{x \rightarrow -\infty} \left(\frac{1}{2}\right)^x = +\infty$$

$$c) \lim_{x \rightarrow +\infty} \left(\frac{5x}{2x-1}\right)^x = \left(\frac{5}{2}\right)^{+\infty} = +\infty$$

$$d) \lim_{x \rightarrow +\infty} \left(\frac{1+3x}{2x}\right)^{-x} = \left(\frac{3}{2}\right)^{-\infty} = \mathbf{0}$$

$$e) \lim_{x \rightarrow +\infty} \left(\frac{x+2}{2x}\right)^{\frac{1}{x}} = \left(\frac{1}{2}\right)^0 = \mathbf{1}$$

$$f) \lim_{x \rightarrow -\infty} \left(\frac{2x+1}{x}\right)^{\frac{2x+1}{x}} = (2)^2 = \mathbf{4}$$

MaTeX

LÍMITES Y  
CONTINUIDAD

Ejercicio 10





**Ejercicio 11.** En el caso necesario dividimos por la mayor potencia:

$$a) \lim_{x \rightarrow \infty} \frac{x^2 + 6}{4x^2 - 3} \equiv \lim_{x \rightarrow \infty} \frac{x^2}{4x^2} = 1/4$$

$$b) \lim_{x \rightarrow \infty} \frac{3x^4 - 2x + 1}{x^4 + x^2 - 4} \equiv \lim_{x \rightarrow \infty} \frac{3x^4}{x^4} = 3$$

$$c) \lim_{x \rightarrow \infty} \frac{\sqrt{x + \sqrt{2x}}}{\sqrt{x - \sqrt{2x}}} \equiv \lim_{x \rightarrow \infty} \frac{\sqrt{x}}{\sqrt{x}} = 1$$

$$d) \lim_{x \rightarrow \infty} \frac{\sqrt{2x\sqrt{2x\sqrt{2x}}}}{\sqrt{x\sqrt{x\sqrt{x}}}} \equiv \lim_{x \rightarrow \infty} \frac{\sqrt[8]{2^7 x^7}}{\sqrt[8]{x^7}} = \sqrt[8]{2^7}$$

Ejercicio 11

MaTeX

LÍMITES Y  
CONTINUIDAD





**Ejercicio 12.** En estos límites aplicamos la técnica del conjugado:

a)

$$\begin{aligned} \frac{x - \sqrt{x^2 + 1}}{x} &= \frac{\infty - \infty}{0} \\ &= \frac{x - \sqrt{x^2 + 1}}{x} \cdot \frac{x + \sqrt{x^2 + 1}}{x + \sqrt{x^2 + 1}} \\ &= \lim_{x \rightarrow \infty} \frac{-1}{x(x + \sqrt{x^2 + 1})} = \frac{-1}{\infty} = \mathbf{0} \end{aligned}$$

b)  $\lim_{x \rightarrow \infty} \sqrt{x^2 + x} - \sqrt{x^2 + 2} = \infty - \infty$

$$\begin{aligned} &= \lim_{x \rightarrow \infty} \frac{(\sqrt{x^2 + x} - \sqrt{x^2 + 2})(\sqrt{x^2 + x} + \sqrt{x^2 + 2})}{\sqrt{x^2 + x} + \sqrt{x^2 + 2}} \\ &= \lim_{x \rightarrow \infty} \frac{x - 2}{\sqrt{x^2 + x} + \sqrt{x^2 + 2}} \\ &= \lim_{x \rightarrow \infty} \frac{x}{2x} = \mathbf{1/2} \end{aligned}$$

MaTeX

LÍMITES Y  
CONTINUIDAD

Ejercicio 12





**Ejercicio 13.**

a) Para que  $f(x) = \begin{cases} x + a & x \leq 1 \\ 2 & 1 < x \end{cases}$  sea continua en  $x = 1$

$$f(1^-) = 1 + a = f(1^+) = 2 \implies \boxed{a = 1}$$

b) Para que  $g(x) = \begin{cases} a^2 x & x \leq 1 \\ 1 & 1 < x \end{cases}$  sea continua en  $x = 1$

$$g(1^-) = a^2 = g(1^+) = 1 \implies \boxed{a = \pm 1}$$

c) Para que  $h(x) = \begin{cases} ax & x \leq 1 \\ x - a & 1 < x \end{cases}$  sea continua en  $x = 1$

$$h(1^-) = a = h(1^+) = 1 - a \implies \boxed{a = 1/2}$$

d) Para que  $y(x) = \begin{cases} a^2 x + 2 & x \leq 1 \\ 1 & 1 < x \end{cases}$  sea continua en  $x = 1$

$$y(1^-) = a^2 + 2 = y(1^+) = 1 \implies a^2 = -1$$

no existe ningún valor de  $a$  que haga continua la función.

MaTeX

LÍMITES Y CONTINUIDAD

Ejercicio 13



**Ejercicio 14.**

$$\text{Siendo } f(x) = \begin{cases} 2x + a & x \leq -1 \\ -x^2 + 2 & -1 < x \leq 1 \\ \ln x & 1 < x \end{cases}$$

a) Para que sea continua en  $x = -1$


$$f(-1^-) = -2 + a = f(-1^+) = 1 \implies \boxed{a = 3}$$

b) ¿Es continua en  $x = 1$ ? No, pues

$$f(1^-) = 1 \neq f(1^+) = \ln 1 = 0$$

Ejercicio 14

MaTeX

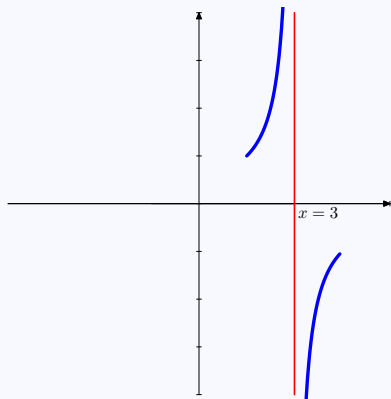
LÍMITES Y  
CONTINUIDAD

**Ejercicio 15.**

$$f(x) = \frac{2+x}{3-x} \text{ en } x = 3$$

$$\lim_{x \rightarrow 3^+} \frac{2+x}{3-x} = -\infty$$

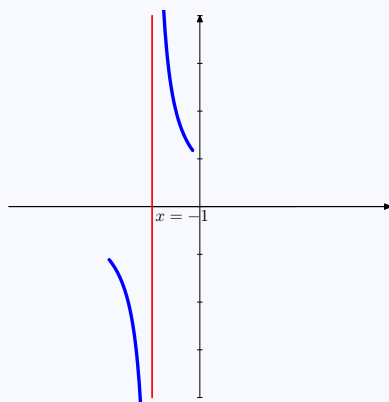
$$\lim_{x \rightarrow 3^-} \frac{2+x}{3-x} = +\infty$$



$$g(x) = \frac{x^2}{x+1} \text{ en } x = 0$$


$$\lim_{x \rightarrow -1^+} \frac{x^2}{x+1} = +\infty$$

$$\lim_{x \rightarrow -1^-} \frac{x^2}{x+1} = -\infty$$



Ejercicio 15

MaTeX

LÍMITES Y  
CONTINUIDAD

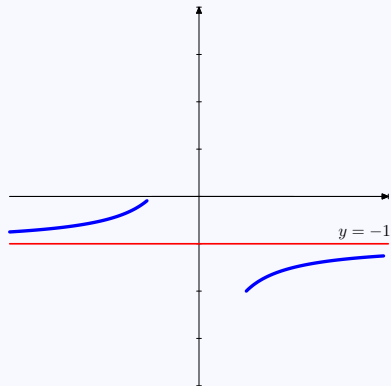
**Ejercicio 16.**

$$f(x) = \frac{2+x}{3-x} \text{ tiene } y = -1$$

$$\lim_{x \rightarrow \infty} \frac{2+x}{3-x} = -1$$

$$\text{Si } x = 10 \implies \frac{2+10}{3-10} < -1$$

$$\text{Si } x = -10 \implies \frac{2-10}{3+10} > -1$$

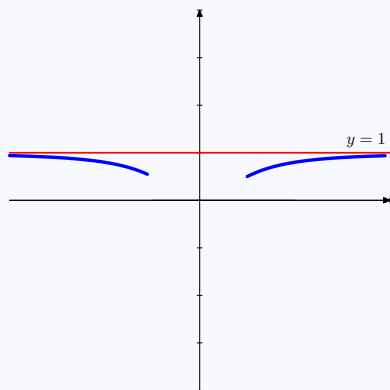


$$g(x) = \frac{x^2}{x^2+1} \text{ tiene } y = 1$$

$$\lim_{x \rightarrow \infty} \frac{x^2}{x^2+1} = 1$$


$$\text{Si } x = 10 \implies \frac{100}{100+1} < 1$$

$$\text{Si } x = -10 \implies \frac{100}{100+1} < 1$$



Ejercicio 16

MaTeX

LÍMITES Y  
CONTINUIDAD

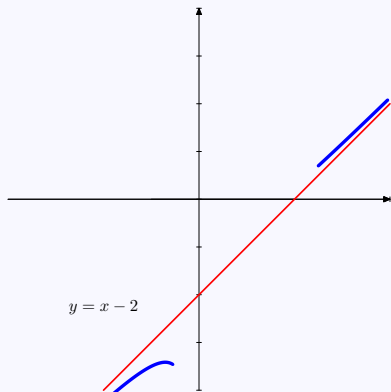
**Ejercicio 17.**

$$f(x) = \frac{2 + x^2}{2 + x}$$

Oblicua  $y_o = x - 2$

$$f(10) = 8,5 > y_o(10) = 8$$

$$f(-10) = -12,75 < y_o(-10) = -12$$

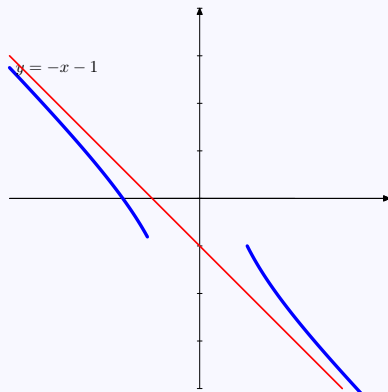


$$g(x) = \frac{x^2 - 2}{1 - x}$$

Oblicua  $y_o = -x - 1$

$$h(10) = -10,8 > y_o(10) = -11$$

$$h(-10) = 8,9 < y_o(-10) = 9$$



Ejercicio 17

MaTeX

LÍMITES Y  
CONTINUIDAD

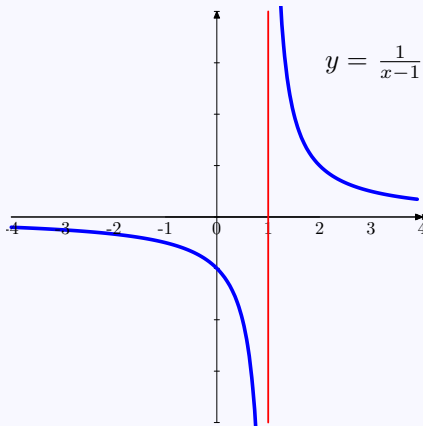




## Ejercicio 18.

Ramas del Infinito de  $\frac{1}{x-1}$

$\lim_{x \rightarrow 1^+} \frac{1}{x-1}$	$+\infty$
$\lim_{x \rightarrow 1^-} \frac{1}{x-1}$	$-\infty$
$\lim_{x \rightarrow +\infty} \frac{1}{x-1}$	0
$\lim_{x \rightarrow -\infty} \frac{1}{x-1}$	0



La función presenta:

- una asíntota vertical en  $x = 1$
- una asíntota horizontal  $y = 0$

Ejercicio 18

MaTeX

LÍMITES Y CONTINUIDAD

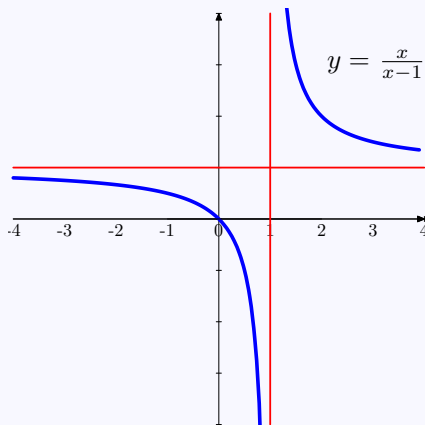




## Ejercicio 19.

Ramas del Infinito de  $\frac{x}{x-1}$

$\lim_{x \rightarrow 1^+} \frac{x}{x-1}$	$+\infty$
$\lim_{x \rightarrow 1^-} \frac{x}{x-1}$	$-\infty$
$\lim_{x \rightarrow +\infty} \frac{x}{x-1}$	1
$\lim_{x \rightarrow -\infty} \frac{x}{x-1}$	1




La función presenta:

- una asíntota vertical en  $x = 1$
- una asíntota horizontal  $y = 1$

Ejercicio 19

MaTeX

LÍMITES Y CONTINUIDAD



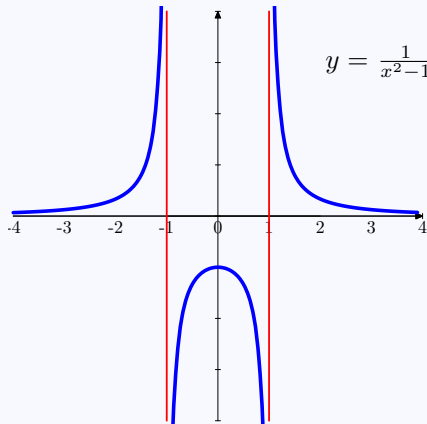


## Ejercicio 20.

$f(x) = \frac{1}{x^2 - 1}$	
$\lim_{x \rightarrow 1^+} f(x)$	$+\infty$
$\lim_{x \rightarrow 1^-} f(x)$	$-\infty$
$\lim_{x \rightarrow -1^+} f(x)$	$-\infty$
$\lim_{x \rightarrow -1^-} f(x)$	$+\infty$
$\lim_{x \rightarrow +\infty} f(x)$	$0$
$\lim_{x \rightarrow -\infty} f(x)$	$0$

La función presenta:

- dos asíntotas verticales en  $x = \pm 1$
- una asíntota horizontal  $y = 0$



MaTeX

LÍMITES Y  
CONTINUIDAD

Ejercicio 20







## Ejercicio 21.

- Horizontal no tiene
- Vertical  $x = 0$

$$\lim_{x \rightarrow 0^+} \frac{x^2 + 1}{x} = +\infty$$

$$\lim_{x \rightarrow 0^-} \frac{x^2 + 1}{x} = -\infty$$

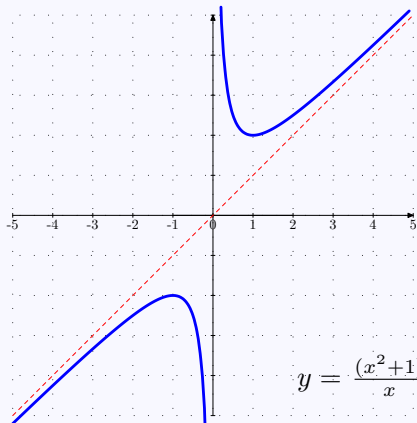
- Oblicua  $y_0 = x$ , pues

$$\frac{x^2 + 1}{x} = \boxed{x} + \frac{1}{x}$$

Posición:

$$f(10) = 10,1 > y_0(10) = 10$$

$$f(-10) = -10,1 < y_0(-10) = -10$$



Ejercicio 21

MaTeX

LÍMITES Y  
CONTINUIDAD



## Ejercicio 22.

- Horizontal no tiene
- Vertical  $x = -1$

$$\lim_{x \rightarrow -1^+} \frac{x^2 + 1}{x + 1} = -\infty$$

$$\lim_{x \rightarrow -1^-} \frac{x^2 + 1}{x + 1} = +\infty$$

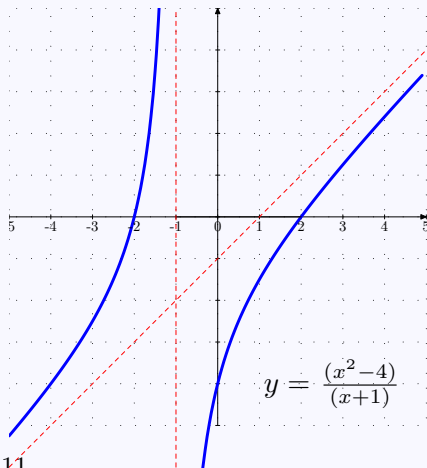
- Oblicua  $y_0 = x - 1$ , pues

$$\frac{x^2 - 4}{x + 1} = \boxed{x - 1} - \frac{3}{x - 1}$$

Posición:


$$f(10) = 8,72 < y_0(10) = 9$$

$$f(-10) = -10,66 > y_0(-10) = -11$$



Ejercicio 22

MaTeX

LÍMITES Y  
CONTINUIDAD



## Ejercicio 23.

- Horizontal no tiene
- Vertical  $x = 0$

$$\lim_{x \rightarrow 0^+} \frac{x^3 - 3x^2 + 4}{x^2} = +\infty$$

$$\lim_{x \rightarrow 0^-} \frac{x^3 - 3x^2 + 4}{x^2} = +\infty$$

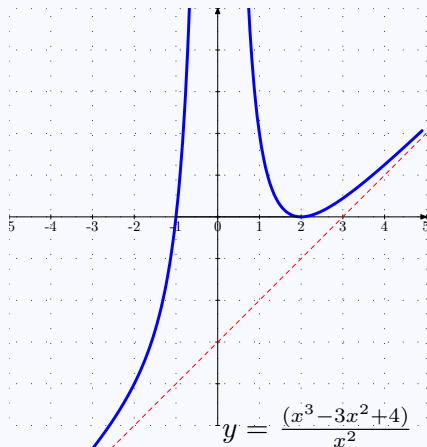
- Oblicua  $y_0 = x - 3$ , pues

$$\frac{x^3 - 3x^2 + 4}{x^2} = \boxed{x - 3} + \frac{4}{x^2}$$

Posición:

$$f(10) = 7,04 > y_0(10) = 7$$

$$f(-10) = -12,96 > y_0(-10) = -13$$



Ejercicio 23

MaTeX

LÍMITES Y  
CONTINUIDAD

## Soluciones a los Tests

**Solución al Test:** En efecto

- **Asíntota vertical**  $x = 1$

$$\lim_{x \rightarrow 1^+} \frac{x+1}{x-1} = +\infty$$

$$\lim_{x \rightarrow 1^-} \frac{x+1}{x-1} = -\infty$$

- **Asíntota horizontal**,  $y = 1$ , pues cuando  $x \rightarrow \infty$


$$\lim_{x \rightarrow \infty} \frac{x+1}{x-1} = 1$$

Final del Test



MaTeX

LÍMITES Y  
CONTINUIDAD



## Índice alfabético

Asíntotas, 43

horizontales, 47

oblicuas, 50

verticales, 44

continuidad, 37

en un punto, 38

discontinuidad, 38

de salto finito, 40

de salto infinito, 41

evitable, 39

tipos de, 38

indeterminación

$1^{\pm\infty}$ , 33

$\frac{0}{0}$ , 20

$\frac{\infty}{\infty}$ , 22

$\infty - \infty$ , 24

límites, 5

$a^{\pm\infty}$ , 28

indeterminados, 18

álgebra de, 8

con tablas, 6

laterales, 10

método

de factorización, 20

del conjugado, 21

número  $e$ , 31



MaTeX

LÍMITES Y  
CONTINUIDAD

